

分数 (分数の表し方) 2

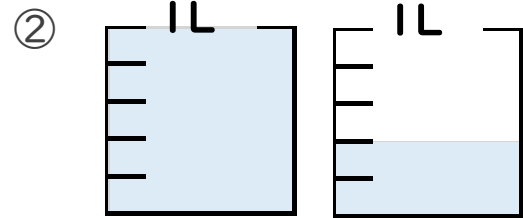
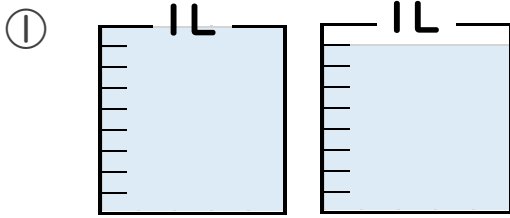
水の量を帯分数と仮分数で表す



日にち： 月 日

名まえ

1 水のかさは何Lですか。仮分数と帯分数の両方で表しましょう。
(うすい字はしっかりなぞりましょう。)



答え 仮分数… $\frac{17}{9}$ L

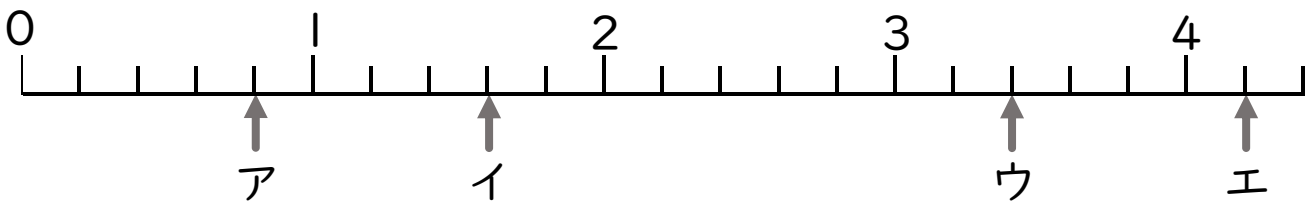
答え 仮分数…

帯分数… $1\frac{8}{9}$ L

帯分数…

2 ア～オのめもりが表す分数はいくつですか。

1より大きい分数は、仮分数と帯分数の両方で表しましょう。




答え ア $\frac{4}{5}$

イ

ウ

エ



分数 (分数の表し方) 2

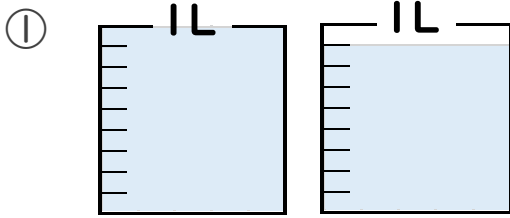
② 水のかさを帯分数と仮分数で表す



日にち： 月 日

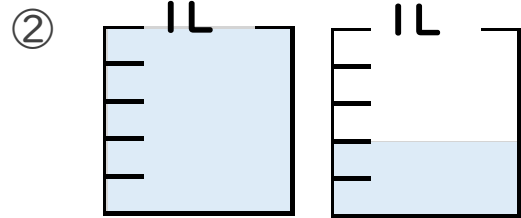
名まえ

1 水のかさは何Lですか。仮分数と帯分数の両方で表しましょう。
(うすい字はしっかりなぞりましょう。)



答え 仮分数... $\frac{17}{9}$ L

帯分数... $1\frac{8}{9}$ L

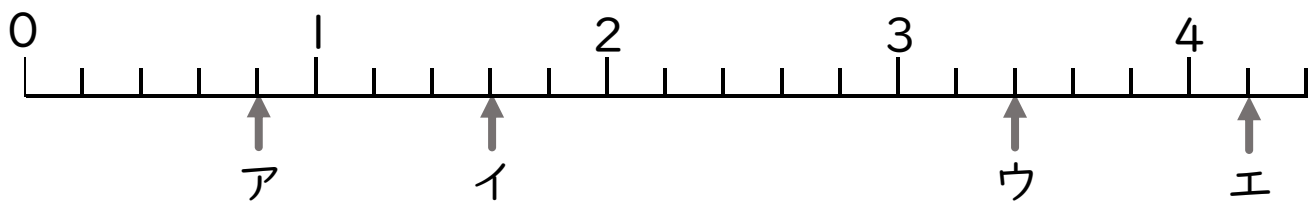


答え 仮分数... $\frac{7}{5}$ L

帯分数... $1\frac{2}{5}$ L

2 ア～オのめもりが表す分数はいくつですか。

1より大きい分数は、仮分数と帯分数の両方で表しましょう。



答え ア $\frac{4}{5}$

イ $\frac{8}{5}$, $1\frac{3}{5}$

ウ $\frac{17}{5}$, $3\frac{2}{5}$

エ $\frac{21}{5}$, $4\frac{1}{5}$