



垂直, 平行と
四角形

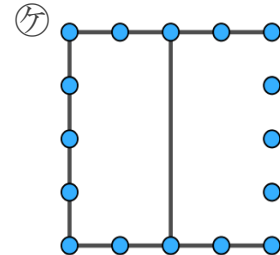
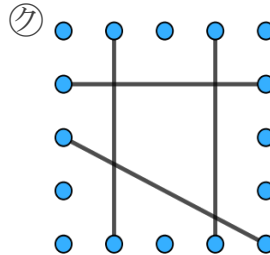
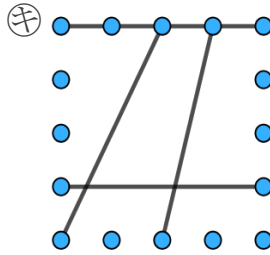
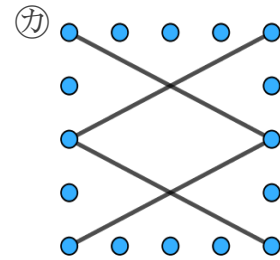
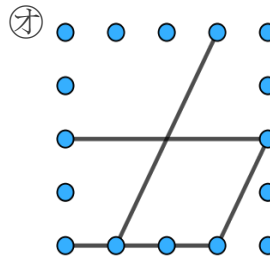
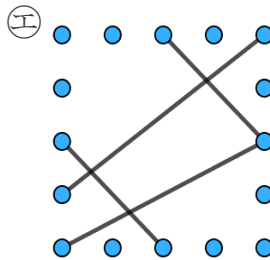
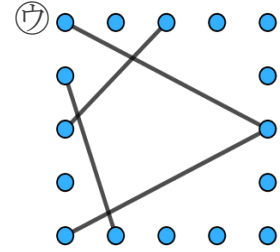
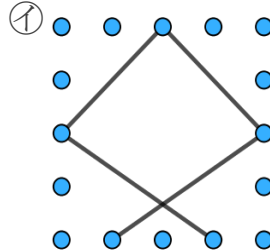
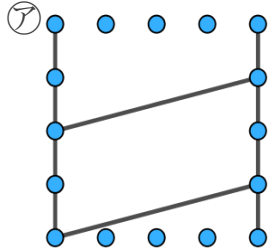
色んな四角形と
平行な辺の数



日にち： 月 日

名まえ

- 平行な直線の組の数に注目して、次の四角形を3つのなかまに分けてみましょう。
(うすい字はしっかりなぞりましょう。)



① 平行な直線が1組

答え: (10), (11), (12)

② 平行な直線が2組

答え: (13), (14), (15)

③ 平行な直線がない

答え: (7), (8), (9)



垂直, 平行と
四角形

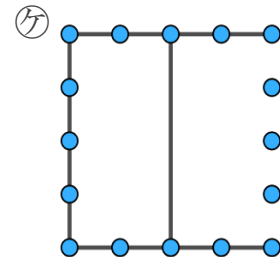
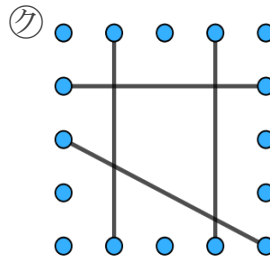
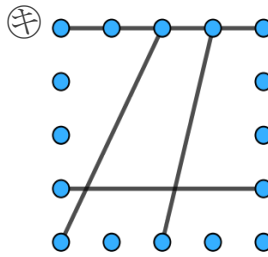
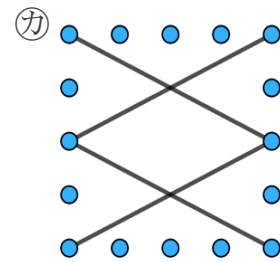
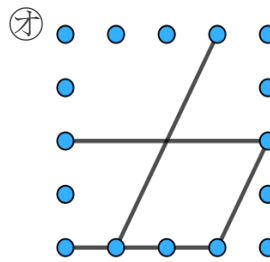
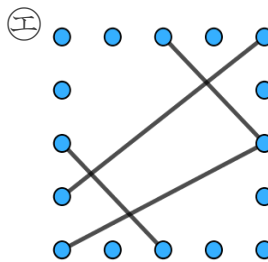
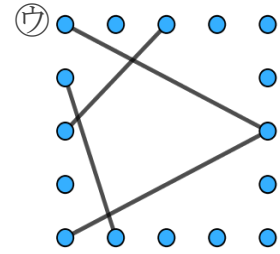
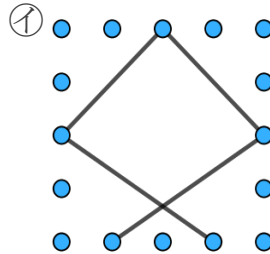
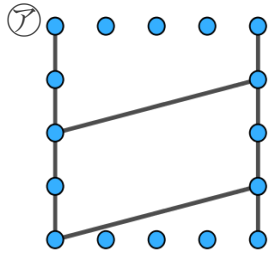
色んな四角形と
平行な辺の数

6

日にち： 月 日

名まえ

- 平行な直線の組の数に注目して、次の四角形を3つのなかまに分けてみましょう。
(うすい字はしっかりなぞりましょう。)



① 平行な直線が1組

答え: エ, キ, ク

② 平行な直線が2組

答え: ア, オ, カ, ケ

③ 平行な直線がない

答え: イ, ウ