

直方体や立方体 9

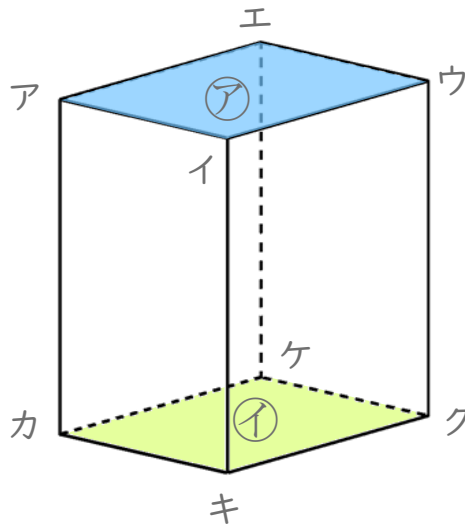
6

◎ 辺と面の関係 (垂直)

日にち： 月 日

名まえ _____

- ・ 辺と面の関係について調べましょう。



- ① 面アと垂直な辺を全部書きましょう。

答え _____

- ② 面イと垂直な辺を全部書きましょう。


答え _____

- ③ 面アイキカと垂直な辺を全部書きましょう。

答え _____

- ④ 面イウクキと垂直な辺を全部書きましょう。

答え _____



直方体や立方体 9

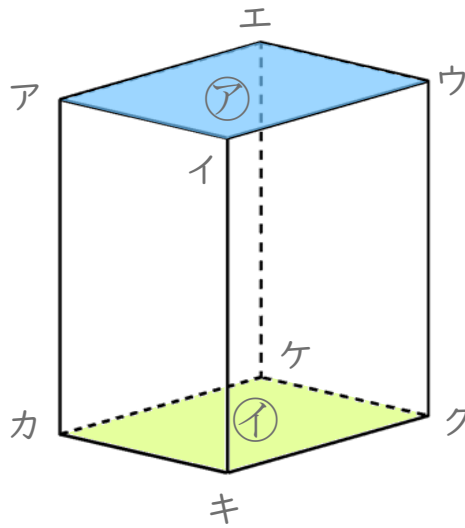
6

◎ 辺と面の関係 (垂直)

日にち： 月 日

名まえ _____

- ・ 辺と面の関係について調べましょう。



- ① 面アと垂直な辺を全部書きましょう。

答え 辺アカ , 辺イキ , 辺ウク , 辺エケ

- ② 面イと垂直な辺を全部書きましょう。

答え 辺アカ , 辺イキ , 辺ウク , 辺エケ

- ③ 面アイキカと垂直な辺を全部書きましょう。

答え 辺アエ , 辺イウ , 辺キク , 辺カケ

- ④ 面イウクキと垂直な辺を全部書きましょう。

答え 辺イア , 辺ウエ , 辺クケ , 辺キカ