



垂直、平行と 四角形2

2直線と垂直

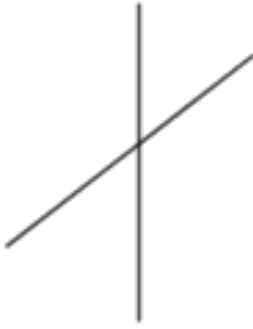
6

日にち： 月 日

名まえ _____

- 次の図で、2本の直線が垂直であるものを㉠～㉧の中から全て選びましょう。

㉠



㉡



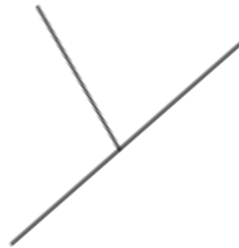
㉢



㉣



㉤



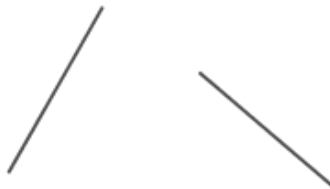
㉥



㉦



㉧



㉨



答え：





垂直, 平行と 四角形2

2直線と垂直

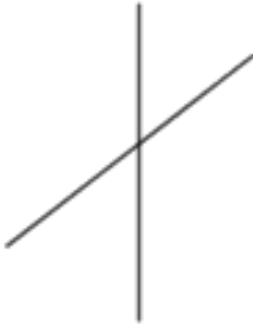
6

日にち： 月 日

名まえ _____

次の図で、2本の直線が垂直であるものを㉠～㉧の中から全て選びましょう。

㉠



㉡



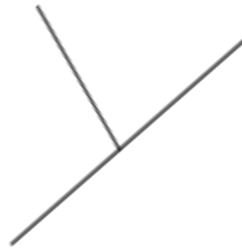
㉢



㉣



㉤



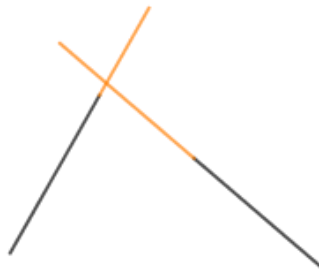
㉥



㉦



㉧



㉨



答え： ㉡, ㉢, ㉦

