



小数の表し方⑨

◎ mをkmで、gをkgで表す

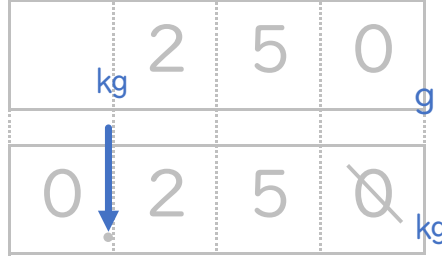


日にち： 月 日

名まえ _____

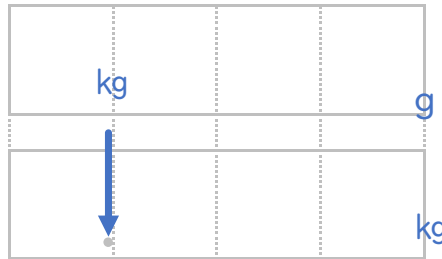
・ 次の重さを、小数を使ってkgで表しましょう。(うすい字はなぞりましょう。)

① 2 5 0 g



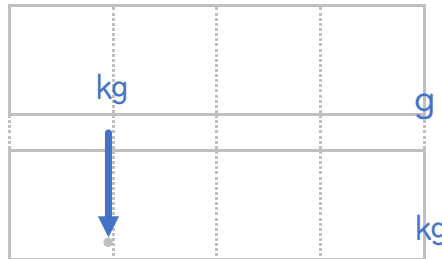
答え _____ kg

② 2 3 0 5 g



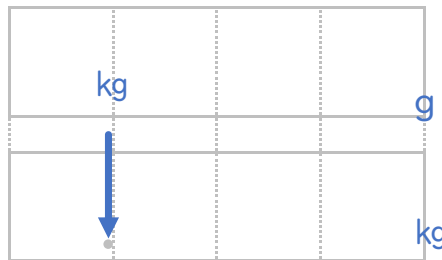
答え _____

③ 5 kg 4 0 0 g



答え _____

④ 1 kg 2 0 g



答え _____





小数の表し方

◎ mをkmで、gをkgで表す



日にち： 月 日

名まえ

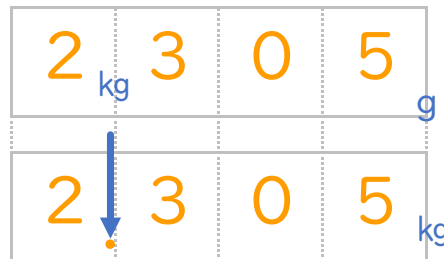
・ 次の重さを、小数を使ってkgで表しましょう。(うすい字はなぞりましょう。)

① 250g



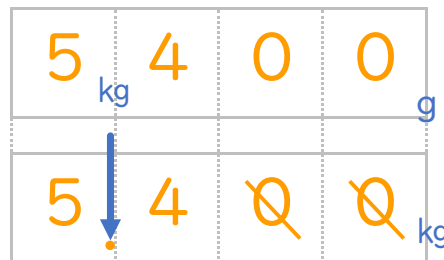
答え 0.2 kg

② 2305g



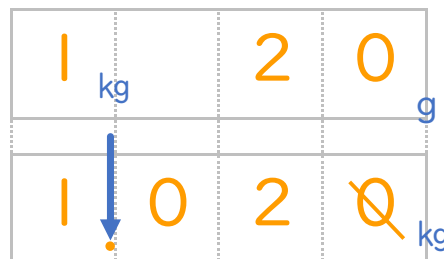
答え 2.305 kg

③ 5kg400g



答え 5.4 kg

④ 1kg20g



答え 1.02 kg

