



計算のきまり 17

● セットの代金と
ばらの代金



日にち： 月 日



名まえ _____

・ さらさんとみくさんは、水族館でおみやげのシールを買います。

さらさんは、ばらで11まい買います。

みくさんは、12まいセット1つと、ばらで4まい買います。



 シールのねだん表 

- ・ 1まい 40円
- ・ 12まいセット 450円

① さらさんの代金は何円ですか。

式：

答え

② みくさんの代金は何円ですか。1つの式に表して求めましょう。

式：

答え





計算のきまり 17

● セットの代金と
ばらの代金





日にち： 月 日

名まえ _____

- ・ さらさんとみくさんは、水族館でおみやげのシールを買います。
さらさんは、ばらで11まい買います。
みくさんは、12まいセット1つと、ばらで4まい買います。



 シールのねだん表 

- ・ 1まい 40円
- ・ 12まいセット 450円

① さらさんの代金は何円ですか。

$$\text{式： } 40 \times 11 = 440$$

答え $\left(440 \text{円} \right)$

② みくさんの代金は何円ですか。1つの式に表して求めましょう。

$$\begin{aligned} \text{式： } 450 + 40 \times 4 &= 450 + 160 \\ &= 610 \end{aligned}$$

答え $\left(610 \text{円} \right)$

