



# 垂直, 平行と 四角形 4

# 7

● 垂直な直線をひく

日にち：            月            日

名まえ \_\_\_\_\_

- ・ 2まいの三角じょうぎを使って、次の点を通り、直線に垂直な直線をひきましょう。

①

● A

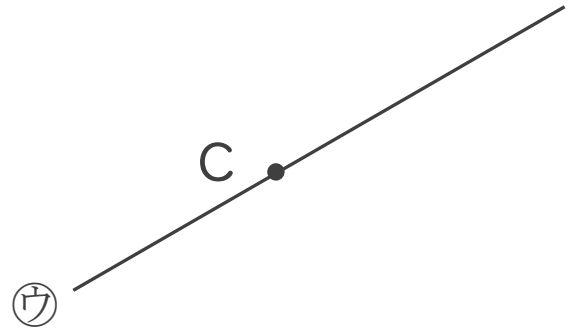


②

①

● B

③



④

①

● D





# 垂直, 平行と 四角形 4

# 7

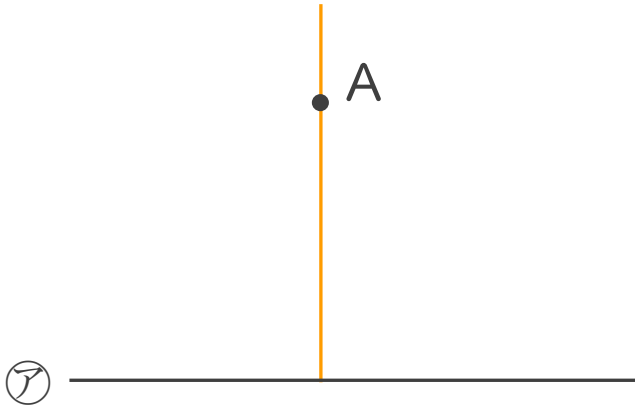
● 垂直な直線をひく

日にち：        月        日

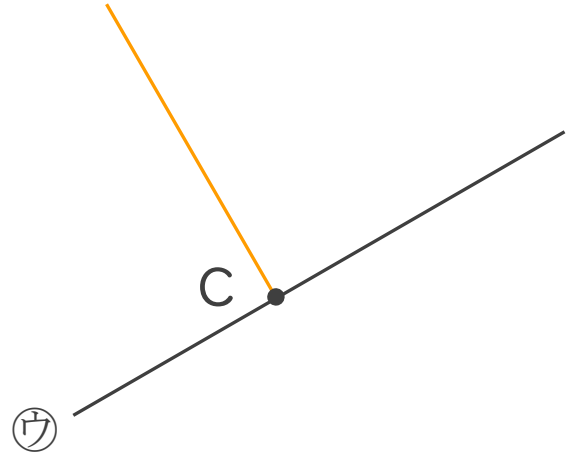
名まえ \_\_\_\_\_

- ・ 2まいの三角じょうぎを使って、次の点を通り、直線に垂直な直線をひきましょう。

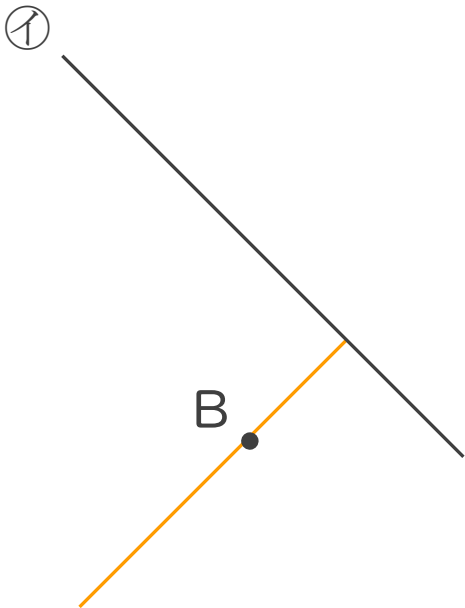
①



③



②



④

