



面積の
はかり方と表し方 9

◎ 平方キロメートルの面積



日にち： 月 日

名まえ _____

・ 次の問いに答えましょう。

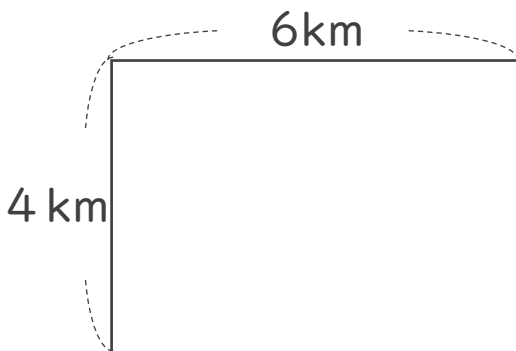
1 たて9km、横8kmのうめたて地の面積は、何 km^2 でしょう。

式：

答え： _____

2 次の図形の面積を求めましょう。

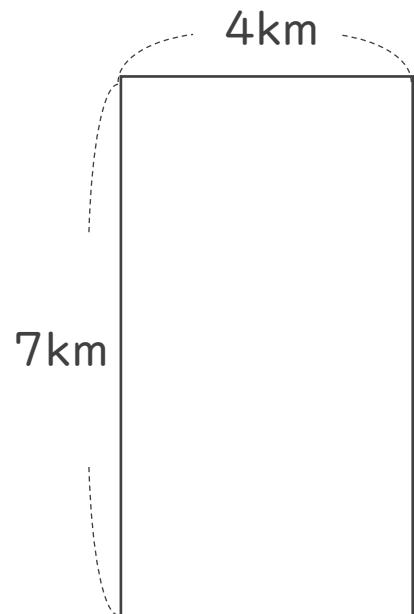
①



式：

答え： _____

②



式：

答え： _____



面積の
はかり方と表し方 9

◎ 平方キロメートルの面積



日にち： 月 日

名まえ _____

・ 次の問いに答えましょう。

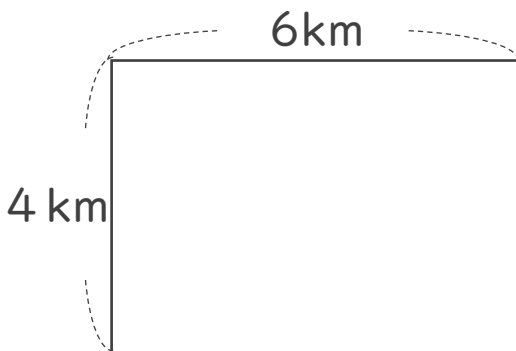
1 たて9km、横8kmのうめたて地の面積は、何 km^2 でしょう。

$$\text{式： } 9 \times 8 = 72$$

$$\text{答え： } \underline{72 \text{ km}^2}$$

2 次の図形の面積を求めましょう。

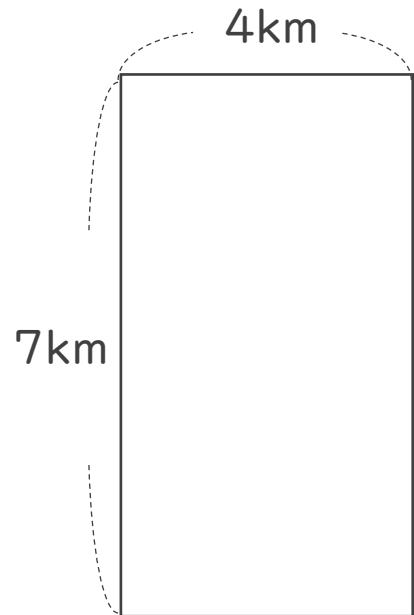
①



$$\text{式： } 4 \times 6 = 24$$

$$\text{答え： } \underline{24 \text{ km}^2}$$

②



$$\text{式： } 7 \times 4 = 28$$

$$\text{答え： } \underline{28 \text{ km}^2}$$