



面積の
はかり方と表し方 8 7
◎ 平方メートルの面積

日にち： 月 日

名まえ _____

・ 次の問いに答えましょう。

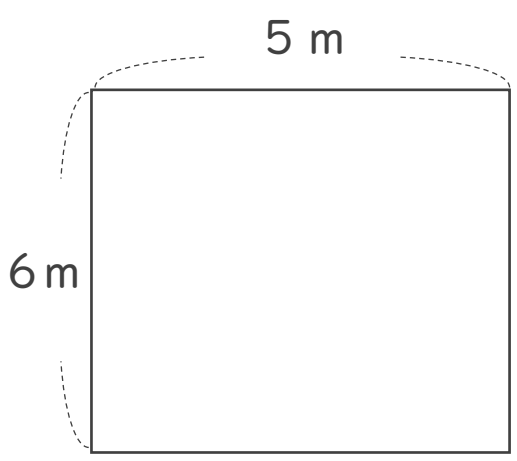
1 たて8 m、横3 mの布の面積は、何 m^2 でしょう。

式：

答え： _____

2 次の図形の面積を求めましょう。

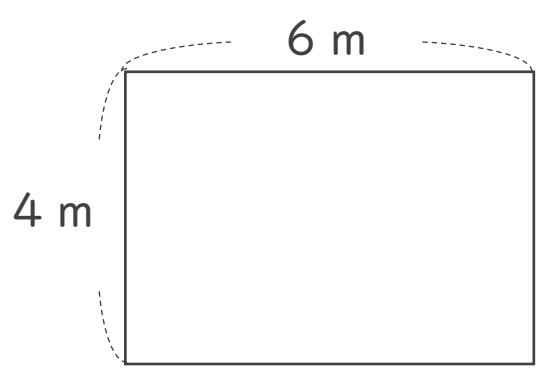
①



式：

答え： _____

②



式：

答え： _____



面積の
はかり方と表し方 8

◎ 平方メートルの面積



日にち： 月 日

名まえ _____

・ 次の問いに答えましょう。

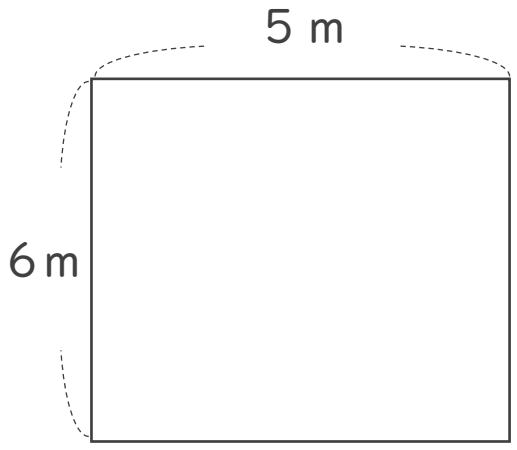
1 たて8 m、横3 mの布の面積は、何 m^2 でしょう。

式： $8 \times 3 = 24$

答え：24 m^2

2 次の図形の面積を求めましょう。

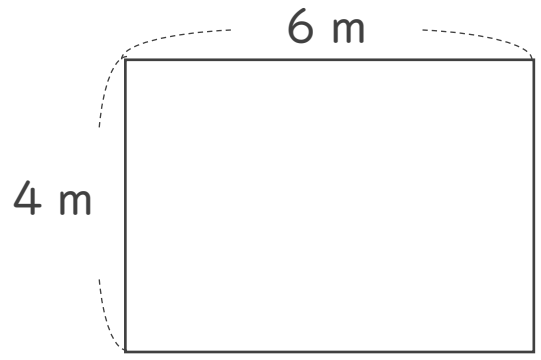
①



式： $6 \times 5 = 30$

答え：30 m^2

②



式： $4 \times 6 = 24$

答え：24 m^2