



垂直, 平行と 四角形⑦

◎ 平行な直線をひく



日にち： 月 日

名まえ _____

・ 2まいの三角じょうぎを使って、次の点を通り、直線に平行な直線をひきましょう。

①

A




③

ウ

C

②

イ



B

④

エ



D



垂直, 平行と 四角形⑦

◎ 平行な直線をひく



日にち： 月 日

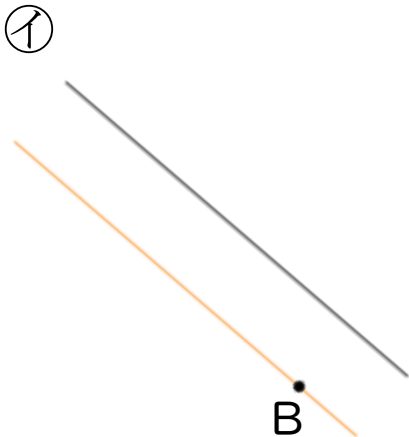
名まえ _____

- ・ 2まいの三角じょうぎを使って、次の点を通り、直線に平行な直線をひきましょう。

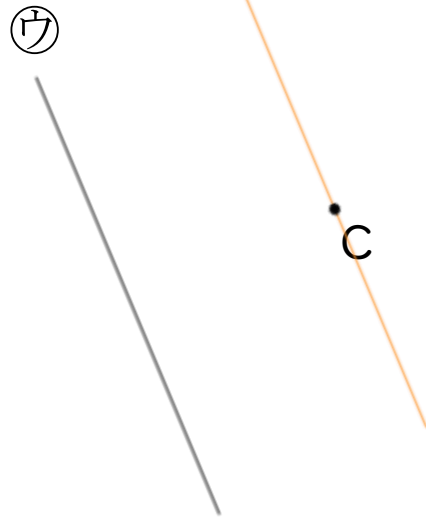
①



②



③



④

