



# 小数の表し方5

㉞ 数直線の読みとり



日にち：      月      日

名まえ \_\_\_\_\_

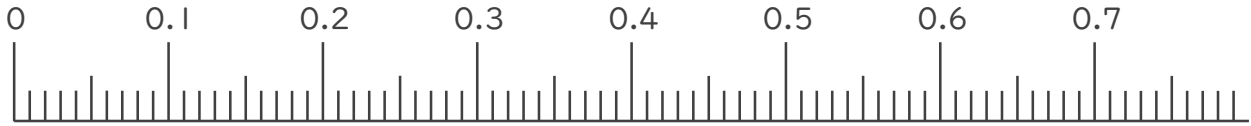
1. 次の小数を表すめもりに ↑ を書きましょう。

① 0.03

② 0.18

③ 0.32

④ 0.69

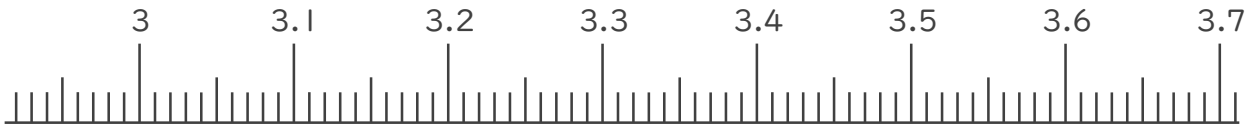


⑤ 3.06

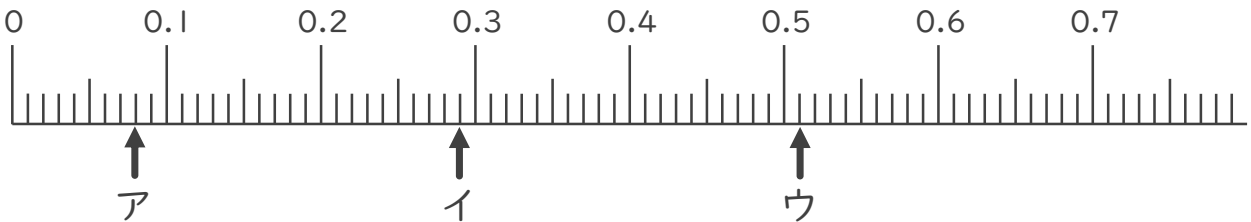
⑥ 3.15

⑦ 3.47

⑧ 3.66



2. 次の数直線でア～オが表す数を答えましょう。



ア \_\_\_\_\_

イ \_\_\_\_\_

ウ \_\_\_\_\_





# 小数の表し方5

◎ 数直線の読みとり



日にち：      月      日

名まえ \_\_\_\_\_

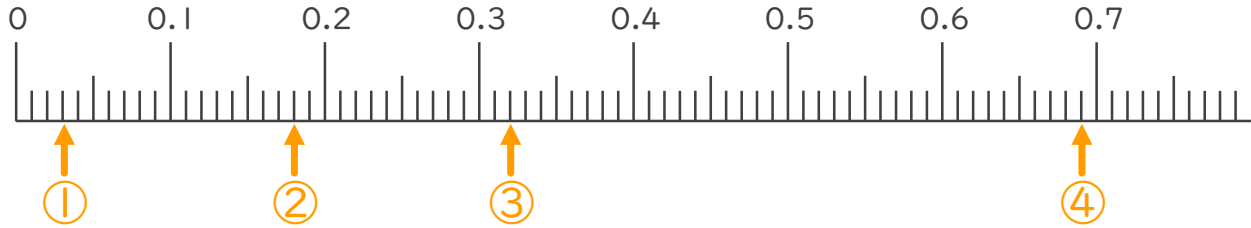
1. 次の小数を表すめもりに ↑ を書きましょう。

① 0.03

② 0.18

③ 0.32

④ 0.69

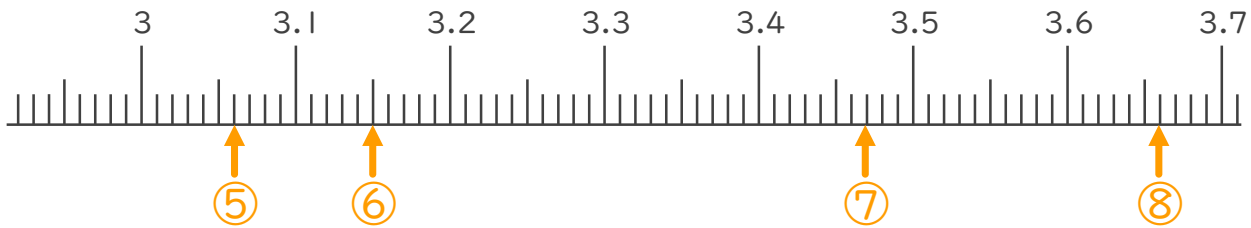


⑤ 3.06

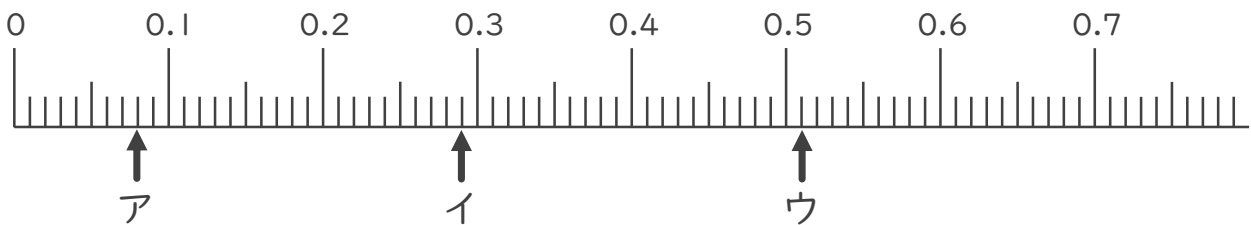
⑥ 3.15

⑦ 3.47

⑧ 3.66



2. 次の数直線でア～オが表す数を答えましょう。



ア 0.08

イ 0.29

ウ 0.51

