



小数の表し方8

㉞ 数直線の読みとり
(小数第三位)

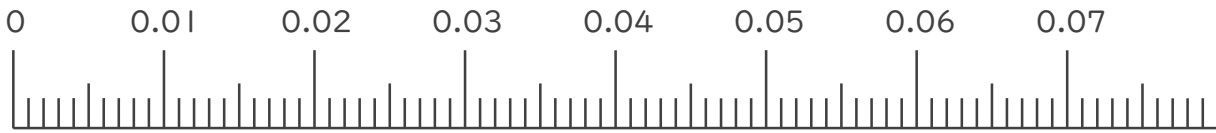


日にち： 月 日

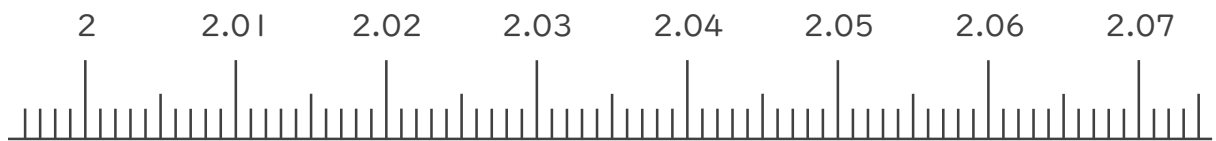
名まえ _____

1. 次の小数を表すめもりに ↑ を書きましょう。

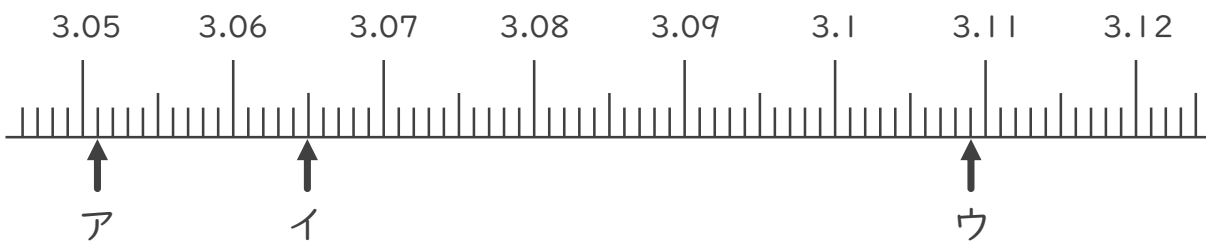
- ① 0.002
- ② 0.013
- ③ 0.035
- ④ 0.069



- ⑤ 2.002
- ⑥ 2.015
- ⑦ 2.051
- ⑧ 2.067



2. 次の数直線でア～ウが表す数を答えましょう。



ア イ ウ





小数の表し方8

㉞ 数直線の読みとり
(小数第三位)

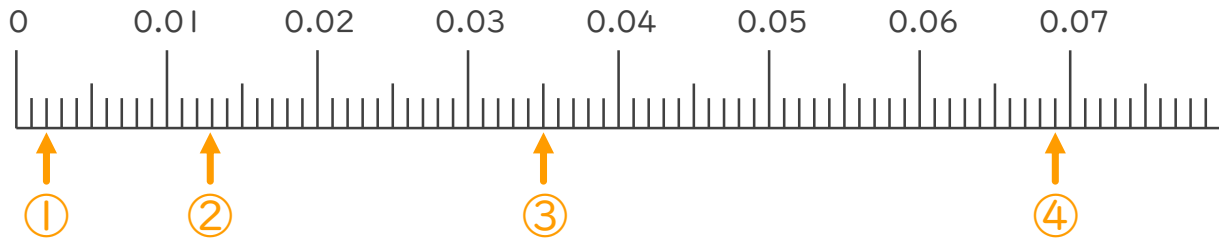


日にち： 月 日

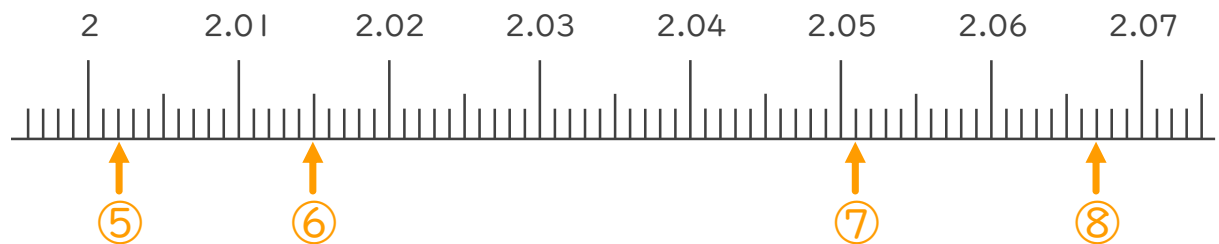
名まえ _____

1. 次の小数を表すめもりに ↑ を書きましょう。

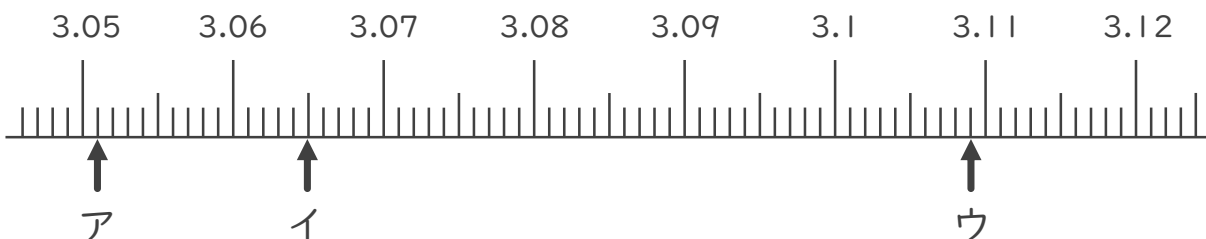
- ① 0.002 ② 0.013 ③ 0.035 ④ 0.069



- ⑤ 2.002 ⑥ 2.015 ⑦ 2.051 ⑧ 2.067



2. 次の数直線でア～ウが表す数を答えましょう。



ア 3.051

イ 3.065

ウ 3.109

