



小数の表し方 4

◎ 水のかさをぬる

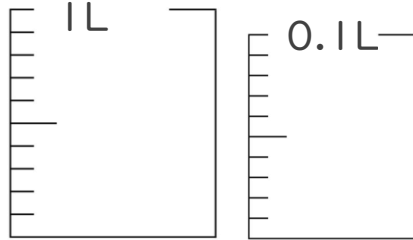


日にち： 月 日

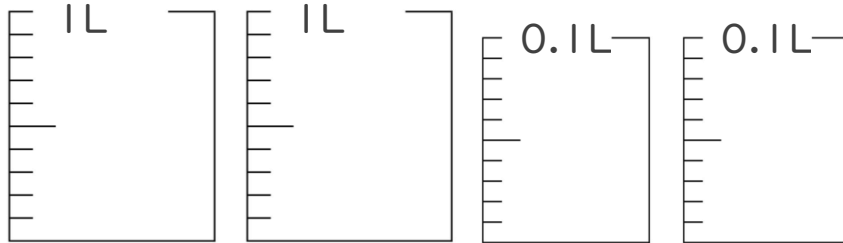
名まえ _____

・ 次の水のかさの分だけ色をぬりましょう。

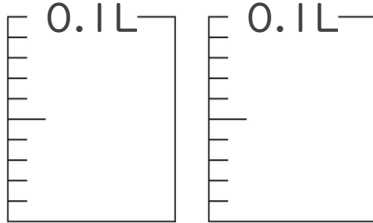
① 1.02 L



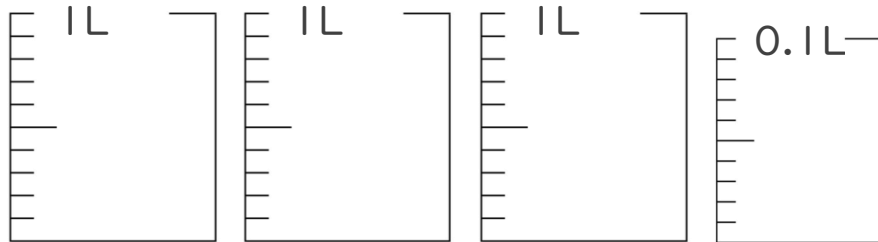
② 2.17 L



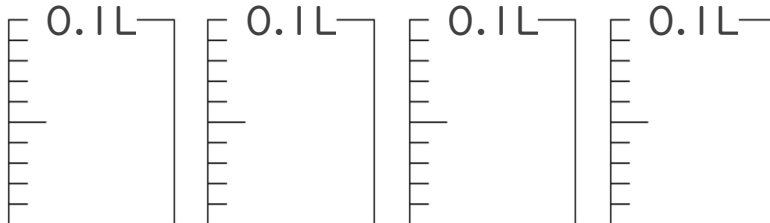
③ 0.15 L



④ 3.08 L



⑤ 0.31 L





小数の表し方 4

◎ 水のかさをぬる

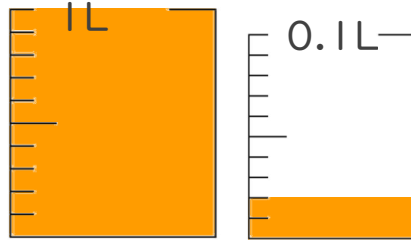


日にち： 月 日

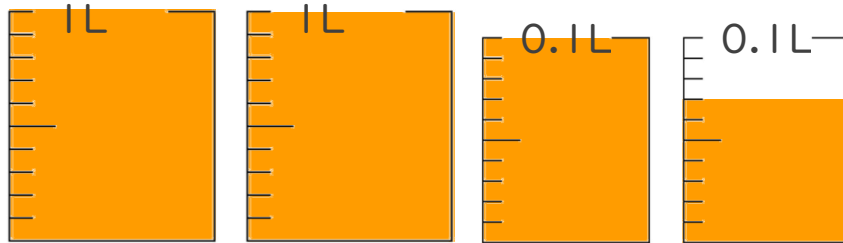
名まえ _____

・ 次の水のかさの分だけ色をぬりましょう。

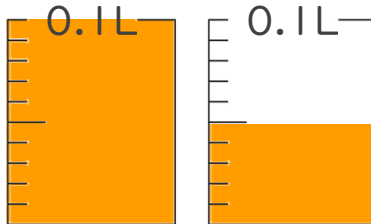
① 1.02 L



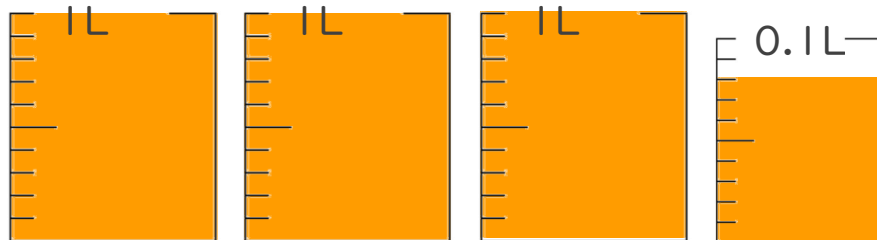
② 2.17 L



③ 0.15 L



④ 3.08 L



⑤ 0.31 L

