



分数(分数の表し方) 1

● 真分数・帯分数・仮分数とは



日にち： 月 日

名まえ _____

1 次の分数は、真分数、仮分数、帯分数のどれですか。

① $\frac{7}{8}$

② $\frac{10}{10}$

③ $1\frac{1}{4}$

④ $\frac{7}{6}$

⑤ $4\frac{2}{3}$

⑥ $\frac{3}{5}$

答え：①

②

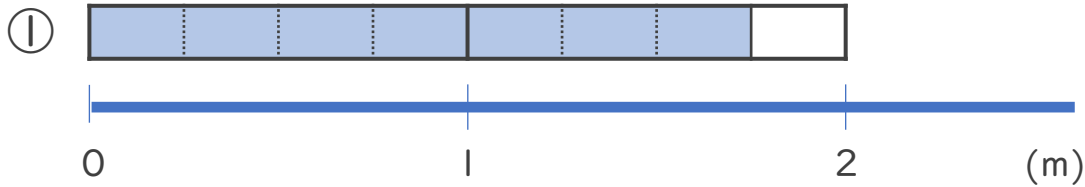
③

④

⑤


⑥

2 色をぬった部分の長さを、仮分数と帯分数の両方で表しましょう。



答え：仮分数…

帯分数…



答え：仮分数…

帯分数…



分数 (分数の表し方) ①

● 真分数・帯分数・仮分数とは



日にち： 月 日

名まえ _____

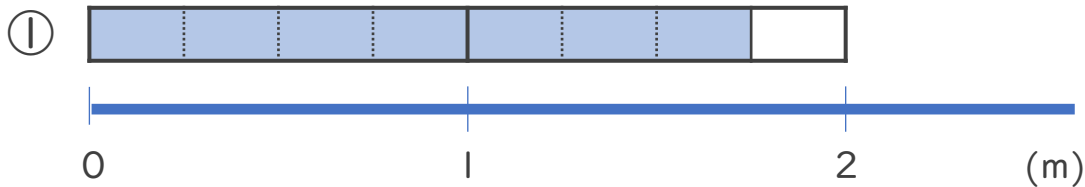
1 次の分数は、真分数、仮分数、帯分数のどれですか。

- ① $\frac{7}{8}$ ② $\frac{10}{10}$ ③ $1\frac{1}{4}$ ④ $\frac{7}{6}$ ⑤ $4\frac{2}{3}$ ⑥ $\frac{3}{5}$


答え：① 真分数 ② 仮分数 ③ 帯分数

④ 仮分数 ⑤ 帯分数 ⑥ 真分数

2 色をぬった部分の長さを、仮分数と帯分数の両方で表しましょう。



答え：仮分数… $\frac{7}{4}$ 帯分数… $1\frac{3}{4}$



答え：仮分数… $\frac{17}{6}$ 帯分数… $2\frac{5}{6}$