



垂直、平行と 四角形

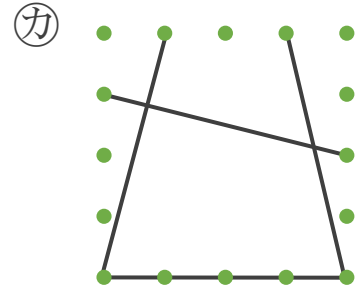
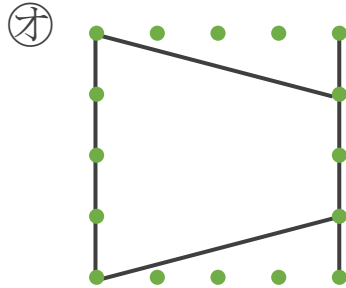
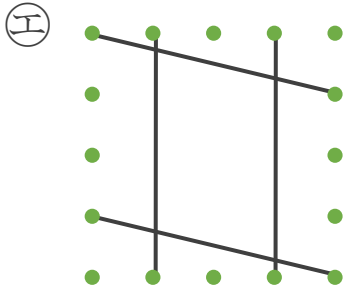
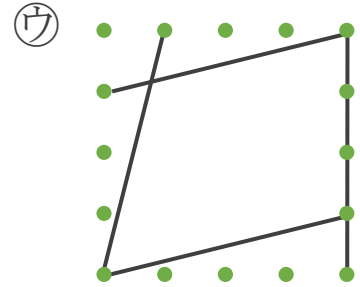
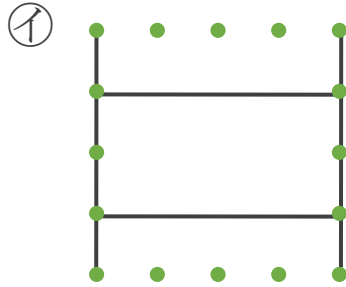
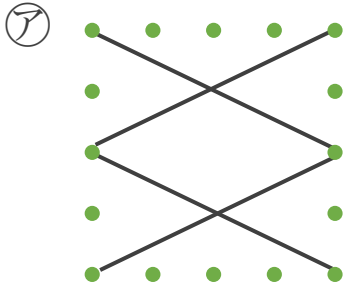
色々な四角形と
平行な辺の数



日にち： 月 日

名まえ _____

・ 平行な直線の組の数に注目して、次の四角形を3つのなかまに分けましょう。



① 平行な直線が1組

答え: _____

② 平行な直線が2組

答え: _____

③ 平行な直線がない

答え: _____



垂直、平行と
四角形

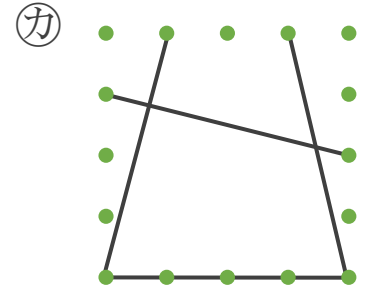
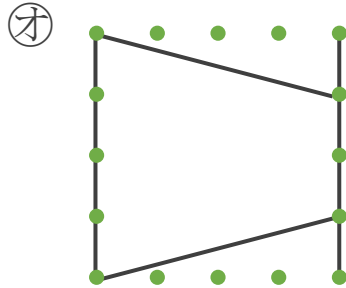
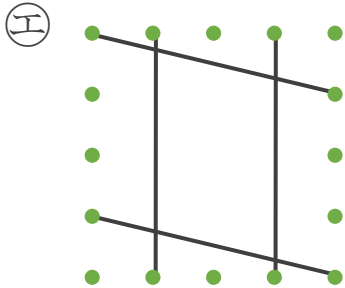
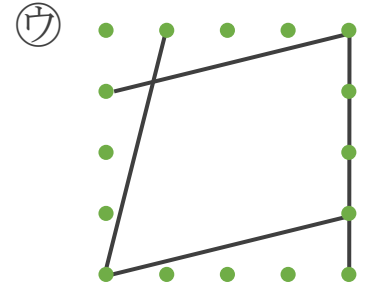
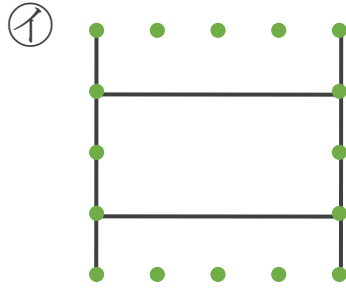
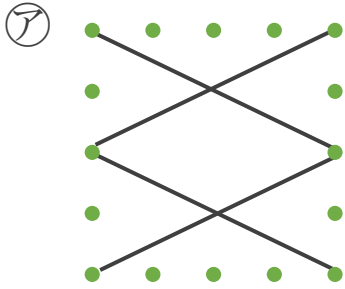
色々な四角形と
平行な辺の数



日にち： 月 日

名まえ _____

・ 平行な直線の組の数に注目して、次の四角形を3つのなかまに分けましょう。



① 平行な直線が1組

答え: ③, ⑤

② 平行な直線が2組

答え: ①, ②, ④

③ 平行な直線がない

答え: ⑥