



## 直方体や立方体 8

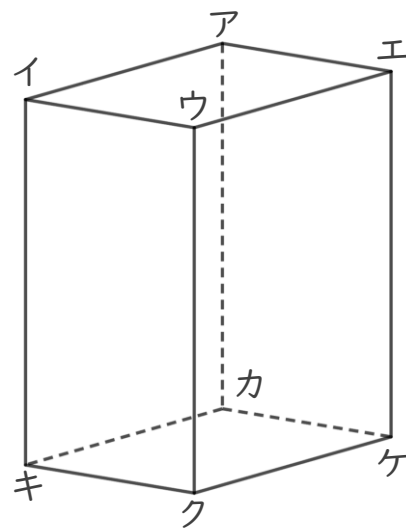
7

◎ 辺と辺の関係  
(垂直と平行)

日にち： 月 日

名まえ \_\_\_\_\_

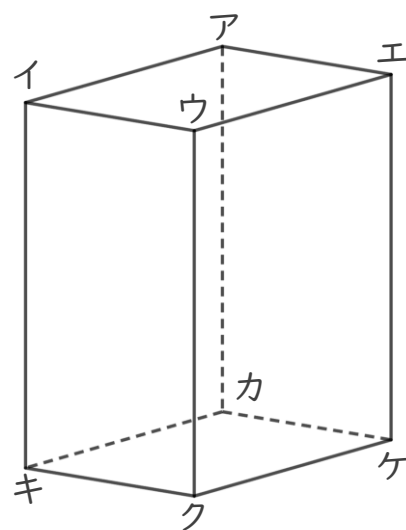
1 辺と辺の関係について調べましょう。



☆ 辺イウと垂直な辺を全部書きましょう。

答え \_\_\_\_\_

2 辺と辺の関係について調べましょう。



① 辺ウエと平行な辺を全部書きましょう。

答え \_\_\_\_\_

② 辺イキと平行な辺を全部書きましょう。

答え \_\_\_\_\_





## 直方体や立方体 8

7

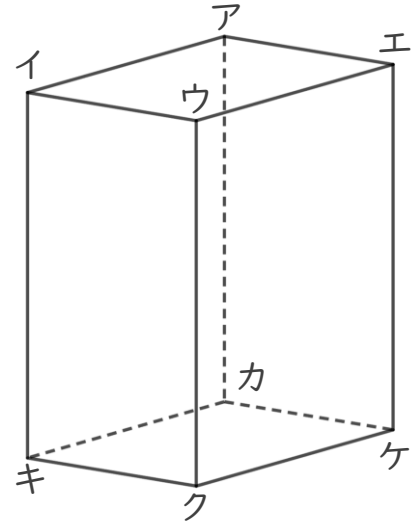
◎ 辺と辺の関係  
(垂直と平行)

日にち： 月 日

名まえ \_\_\_\_\_

1 辺と辺の関係について調べましょう。

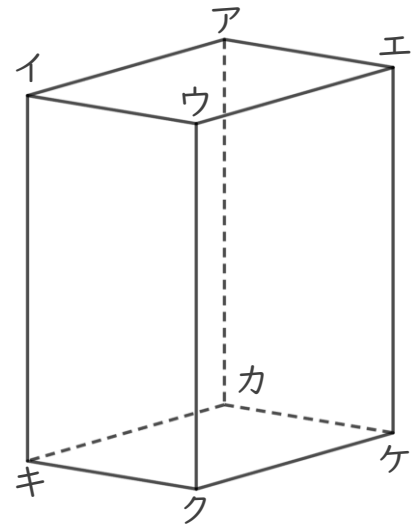
☆ 辺イウと垂直な辺を全部書きましょう。



答え 辺イア , 辺イキ , 辺ウエ , 辺ウク

2 辺と辺の関係について調べましょう。

① 辺ウエと平行な辺を全部書きましょう。



答え 辺イア , 辺キカ , 辺クケ

② 辺イキと平行な辺を全部書きましょう。

答え 辺ウク , 辺エケ , 辺アカ

