



小数の表し方3

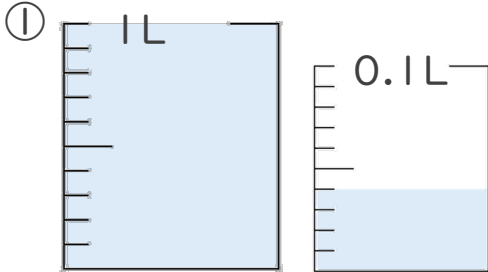


◎ 0.01を何こ？

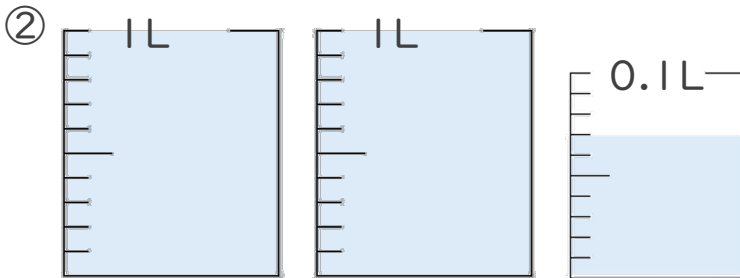
日にち： 月 日

名まえ _____

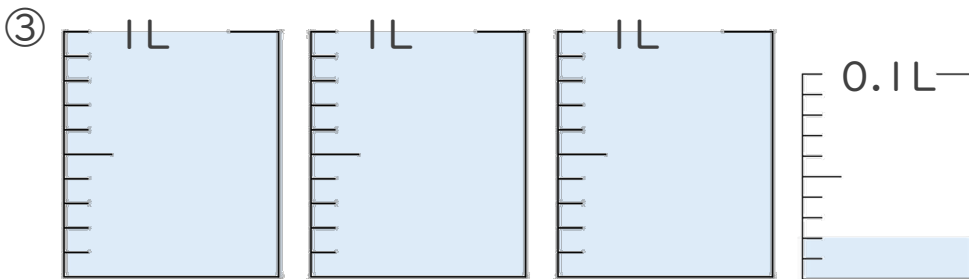
1. 1L入る水さしと、0.1L入る水さしがあります。
水さしに入っている水のかさを、L単位で表しましょう。



答え _____



答え _____



答え _____

2. 次の問いに答えましょう。

① 0.23 Lは0.01Lを何こ集めたかさですか？

答え _____

② 0.1Lは0.01Lを何こ集めたかさですか？

答え _____





小数の表し方3

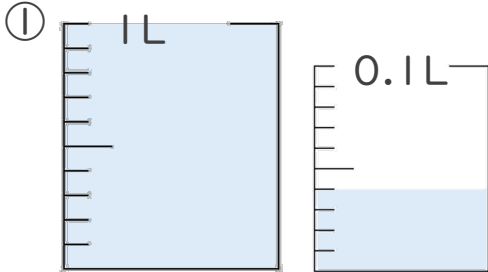
◎ 0.01を何こ？



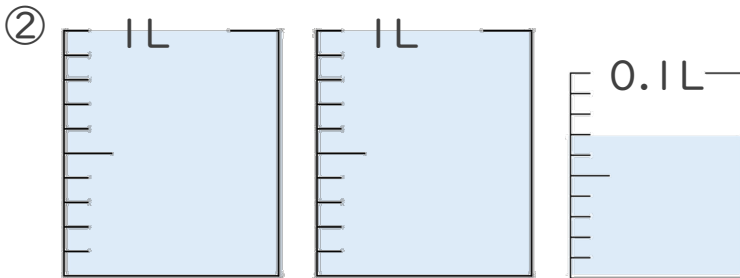
日にち： 月 日

名まえ _____

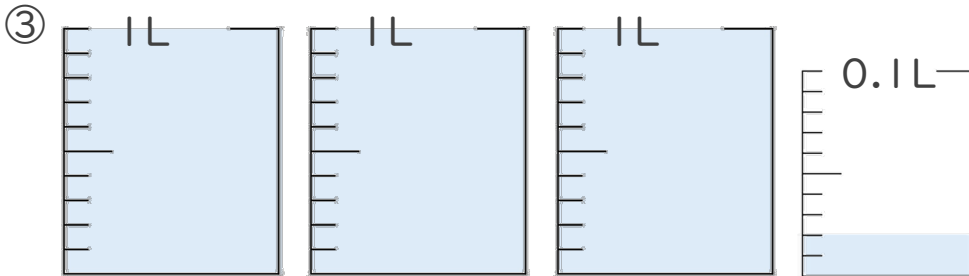
1. 1L入る水さしと、0.1L入る水さしがあります。
水さしに入っている水のかさを、L単位で表しましょう。



答え 1.04L



答え 2.07L



答え 3.02L

2. 次の問いに答えましょう。

① 0.23 Lは0.01Lを何こ集めたかさですか？

答え 23こ

② 0.1Lは0.01Lを何こ集めたかさですか？

答え 10こ

