



# 小数の表し方3

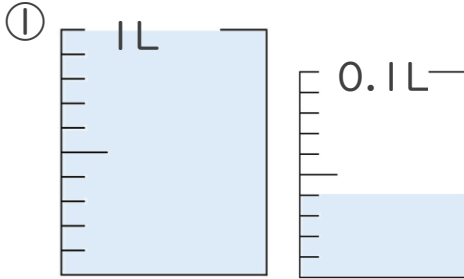


◎ 0.01を何こ?

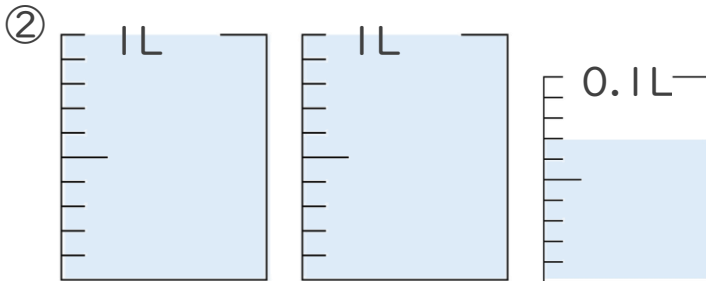
日にち：        月        日

名まえ \_\_\_\_\_

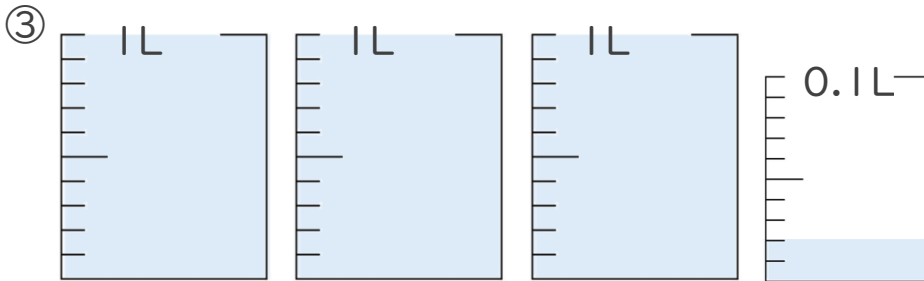
1. 1L入る水さしと、0.1L入る水さしがあります。  
水さしに入っている水のかさを、L単位で表しましょう。



答え \_\_\_\_\_



答え \_\_\_\_\_



答え \_\_\_\_\_

2. 次の問いに答えましょう。

① 0.23 Lは0.01Lを何こ集めたかさですか？

答え \_\_\_\_\_

② 0.1Lは0.01Lを何こ集めたかさですか？

答え \_\_\_\_\_





# 小数の表し方3

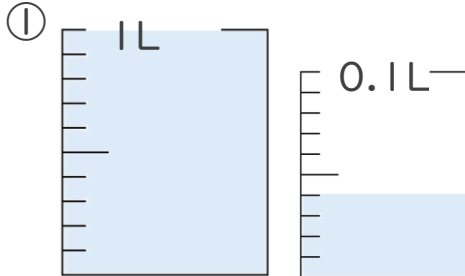


◎ 0.01を何こ？

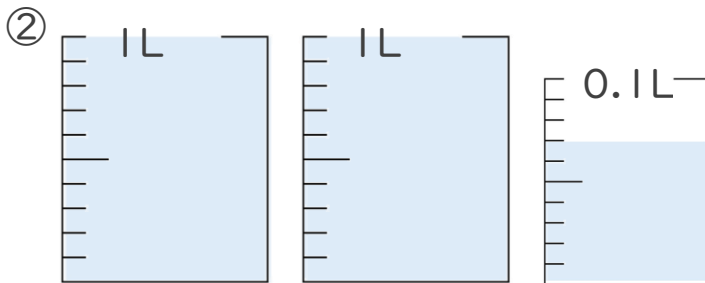
日にち：        月        日

名まえ \_\_\_\_\_

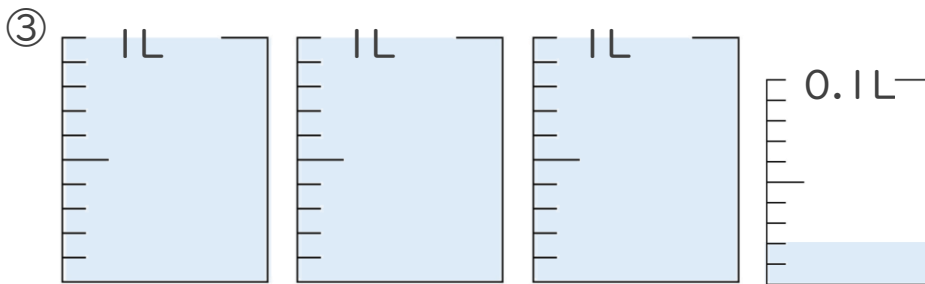
1. 1L入る水さしと、0.1L入る水さしがあります。  
水さしに入っている水のかさを、L単位で表しましょう。



答え 1.04L



答え 2.07L



答え 3.02L

2. 次の問いに答えましょう。

① 0.23 Lは0.01Lを何こ集めたかさですか？

答え 23こ

② 0.1Lは0.01Lを何こ集めたかさですか？

答え 10こ

