



小数のしくみ7

◎ 6より0.03小さい数



日にち： 月 日

名まえ _____

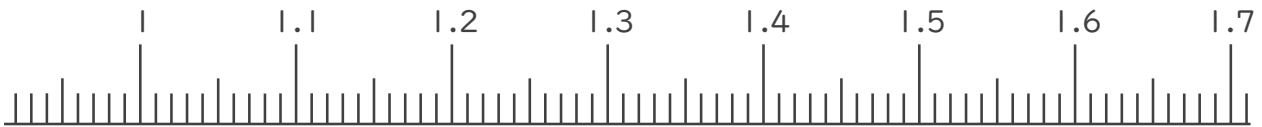
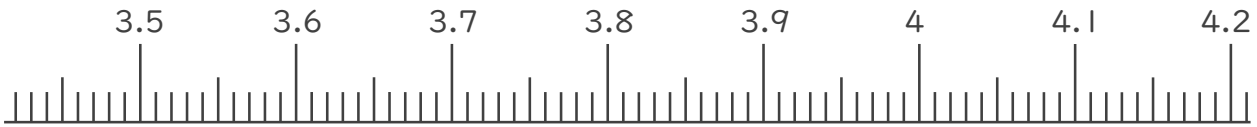
1. 下の数直線で、ア～エの数を表すめもりに ↑ をかきましょう。
また、 ↑ の下にア～エの記号とその数をかきましょう。

ア 3.6より0.03大きい数

イ 4より0.09小さい数

ウ 1.2より0.05大きい数

エ 1.6より0.06小さい数



2. 次の数はいくつですか。

① 3と0.1をあわせた数

答え _____

② 1を7こ、0.01を3こあわせた数

答え _____

③ 1を5こ、0.1を4こ、0.01を9こあわせた数

答え _____





小数のしくみ7

© 6より0.03小さい数



日にち： 月 日

名まえ _____

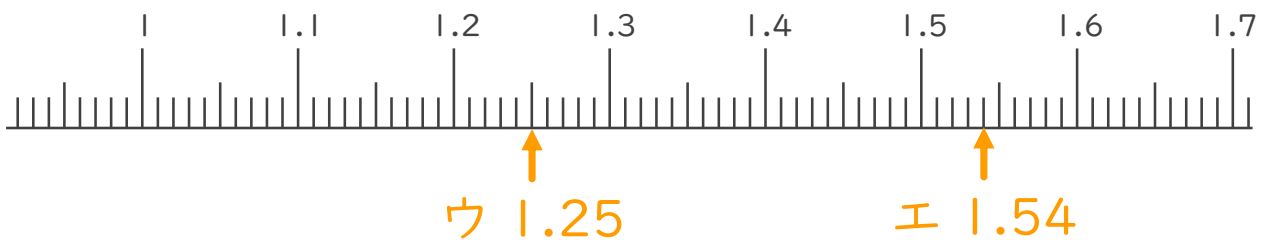
1. 下の数直線で、ア～エの数を表すめもりに ↑ をかきましょう。
また、 ↑ の下にア～エの記号とその数をかきましょう。

ア 3.6より0.03大きい数

イ 4より0.09小さい数

ウ 1.2より0.05大きい数

エ 1.6より0.06小さい数



2. 次の数はいくつですか。

① 3と0.1をあわせた数

答え 3.1

② 1を7こ、0.01を3こあわせた数

答え 7.03

③ 1を5こ、0.1を4こ、0.01を9こあわせた数

答え 5.49

