



垂直, 平行と
四角形2

2直線と垂直

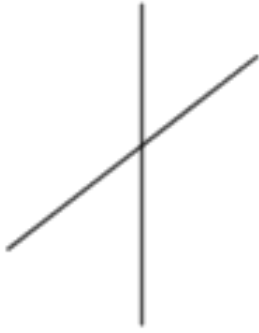


日にち： 月 日

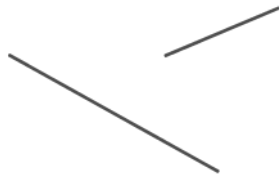
名まえ _____

次の図で、2本の直線が垂直であるものを㉠～㉧の中から全て選びましょう。

㉠



㉡



㉢



㉣



㉤



㉥



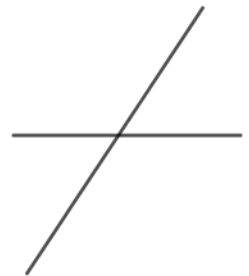
㉦



㉧



㉨



答え： _____





垂直, 平行と 四角形2

2直線と垂直

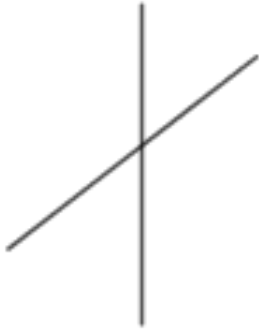


日にち： 月 日

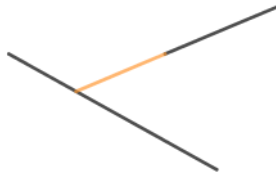
名まえ _____

- 次の図で、2本の直線が垂直であるものを㉠～㉧の中から全て選びましょう。

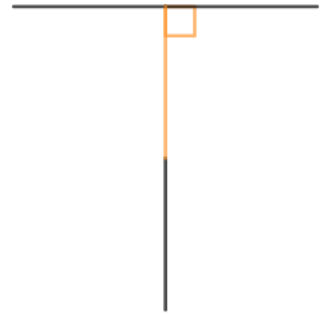
㉠



㉡



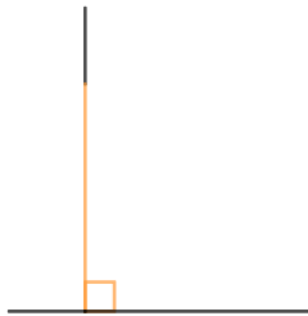
㉢



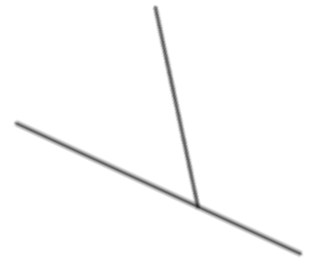
㉣



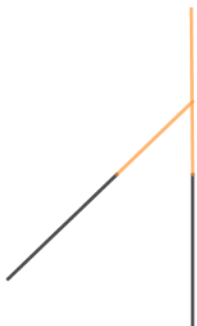
㉤



㉥



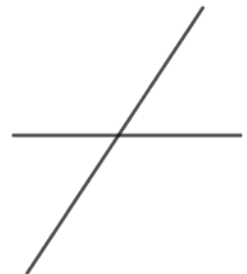
㉦



㉧



㉨



答え： ㉢, ㉤, ㉧

