



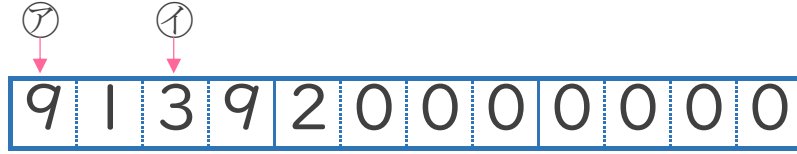
大きな数 3
 ● それぞれの位の数字



日にち： 月 日

名まえ _____

1 913920000000 という数について、次の問いに答えましょう。



① ㊦と㊧は、それぞれ何の位の数字ですか。

答え ㊦ の位 , ㊧ の位

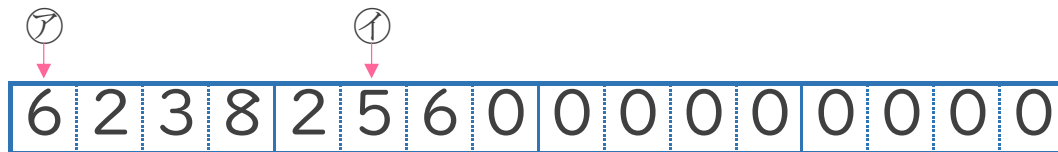
② 左から4ばんめの9は、何が9こあることを表していますか。

答え _____

③ 百億の位の数字は何ですか。

答え _____

2 6238256000000000 という数について 次の問いに答えましょう。



① ㊦と㊧は、それぞれ何の位の数字ですか。

答え ㊦ の位 , ㊧ の位

② 左から2ばんめの2は、何が2こあることを表していますか。

答え _____

③ 一兆の位の数字は何ですか。

答え _____



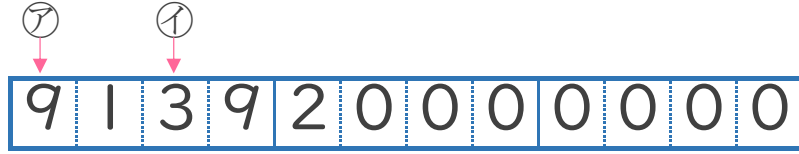
大きな数 3
 ● それぞれの位の数字



日にち： 月 日

名まえ _____

1 913920000000 という数について、次の問いに答えましょう。



① ㊦と㊧は、それぞれ何の位の数字ですか。

答え ㊦ **千億** の位 , ㊧ **十億** の位

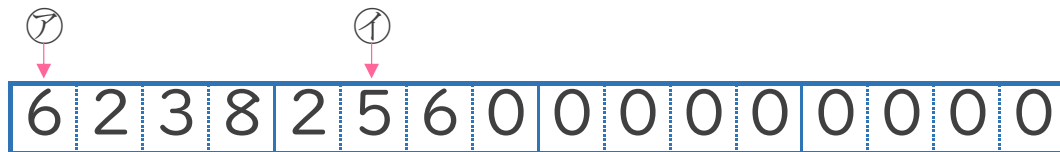
② 左から4ばんめの9は、何が9こあることを表していますか。

答え **一億**

③ 百億の位の数字は何ですか。

答え **1**

2 6238256000000000 という数について 次の問いに答えましょう。



① ㊦と㊧は、それぞれ何の位の数字ですか。

答え ㊦ **千兆** の位 , ㊧ **百億** の位

② 左から2ばんめの2は、何が2こあることを表していますか。

答え **百兆**

③ 一兆の位の数字は何ですか。

答え **8**