



小数のわり算 18

わり進み
(1桁の整数 ÷ 1桁の整数)




日にち： 月 日


名まえ _____

・ 次の計算をわりきれぬまでしましょう。


① $1 \div 4$



② $5 \div 4$




③ $3 \div 4$



④ $7 \div 4$



⑤ $6 \div 8$



⑥ $2 \div 8$





小数のわり算 18

わり進み
(1桁の整数 ÷ 1桁の整数)



日にち： 月 日

名まえ

・ 次の計算をわりきれぬまでしましょう。

① $1 \div 4$

	0.	2	5
4)	1.	0 0
		8	
		2	0
		2	0
			0

② $5 \div 4$

	1.	2	5
4)	5.	0 0
		4	
		1	0
		8	
		2	0
		2	0
			0

③ $3 \div 4$

	0.	7	5
4)	3.	0 0
		2	8
		2	0
		2	0
			0

④ $7 \div 4$

	1.	7	5
4)	7.	0 0
		4	
		3	0
		2	8
		2	0
		2	0
			0

⑤ $6 \div 8$

	0.	7	5
8)	6.	0 0
		5	6
		4	0
		4	0
			0

⑥ $2 \div 8$

	0.	2	5
8)	2.	0 0
		1	6
		4	0
		4	0
			0

