



垂直、平行と  
四角形 12

● 台形と平行四辺形

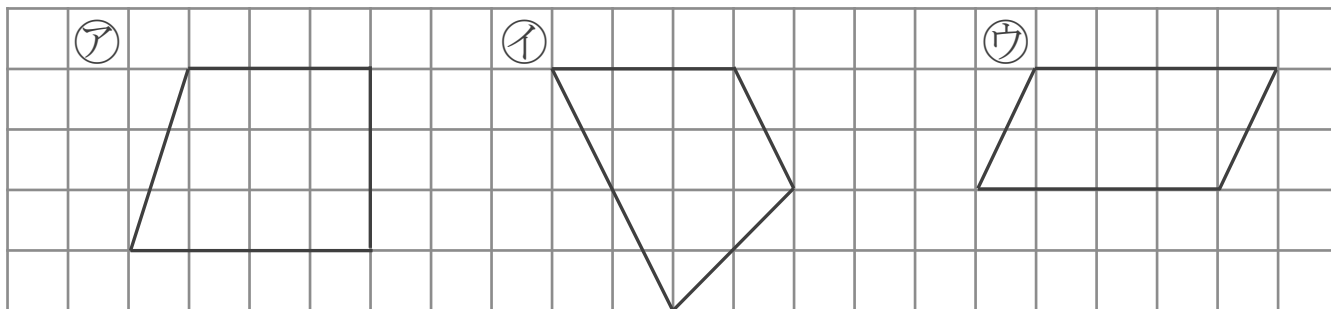


日にち：            月            日

名まえ \_\_\_\_\_

・ 次の四角形を、台形と平行四辺形に分けましょう。

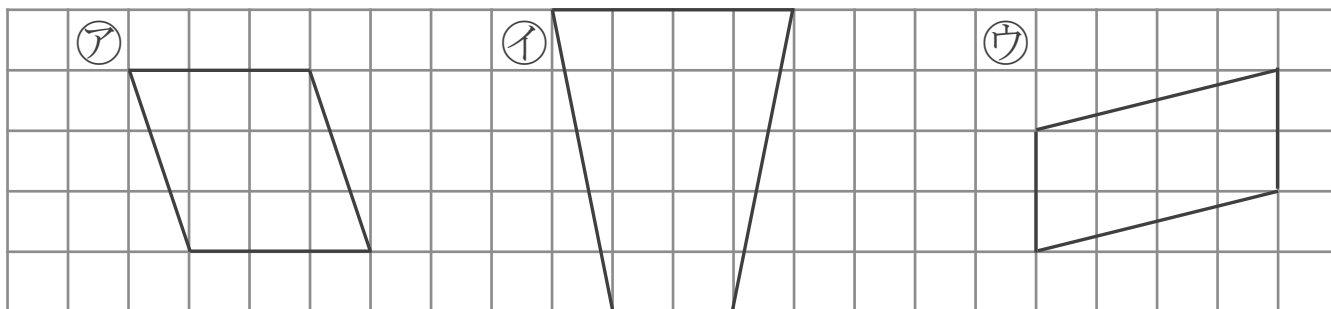
①



答え：            台形…

平行四辺形…  
\_\_\_\_\_

②



答え：            台形…

平行四辺形…  
\_\_\_\_\_



垂直、平行と  
四角形 12

● 台形と平行四辺形

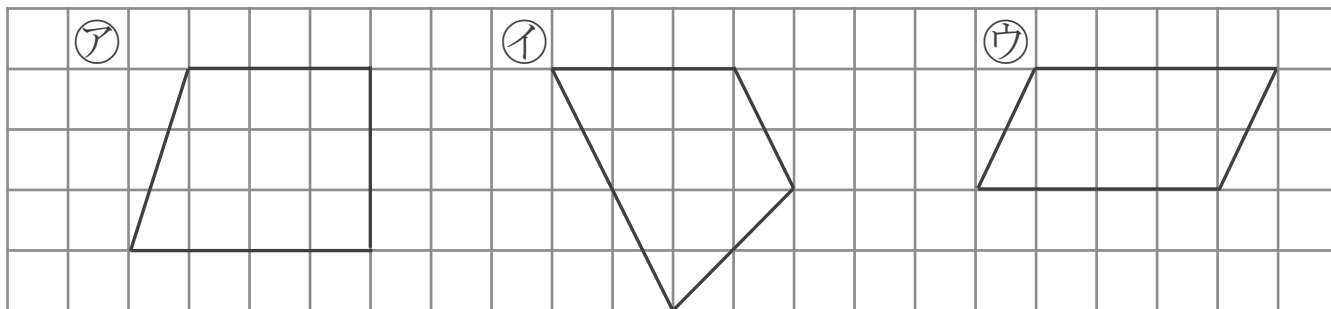


日にち：            月            日

名まえ \_\_\_\_\_

・ 次の四角形を、台形と平行四辺形に分けましょう。

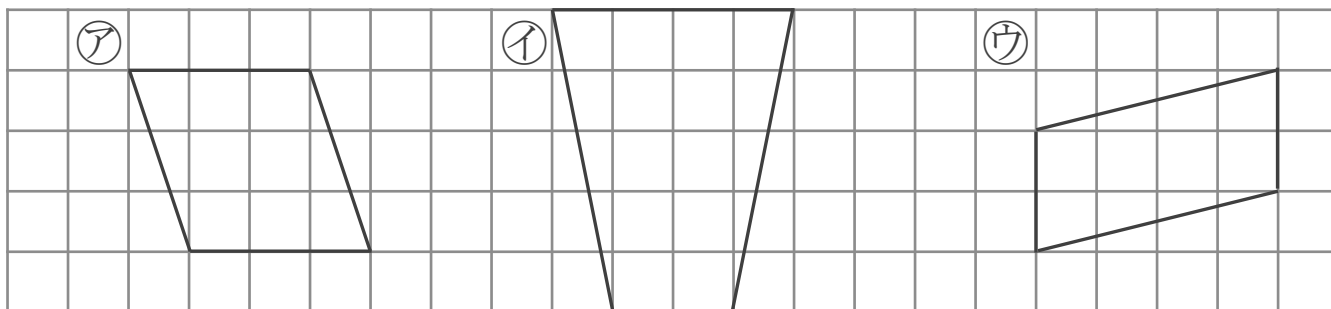
①



答え：            台形…    (ア), (イ)

平行四辺形…    (ウ)

②



答え：            台形…    (イ)

平行四辺形…    (ア), (ウ)