



垂直, 平行と 四角形 4

8

● 垂直な直線をひく

日にち： 月 日

名まえ _____

- ・ 2まいの三角じょうぎを使って、次の点を通り、直線に垂直な直線をひきましょう。

①

ア



• A

③

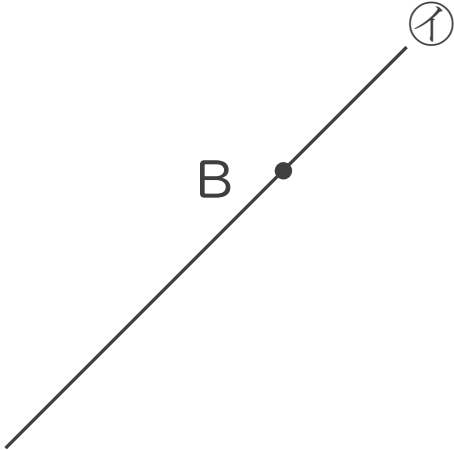
ウ



• C


②

イ



④

エ



• D





垂直, 平行と 四角形 4

8

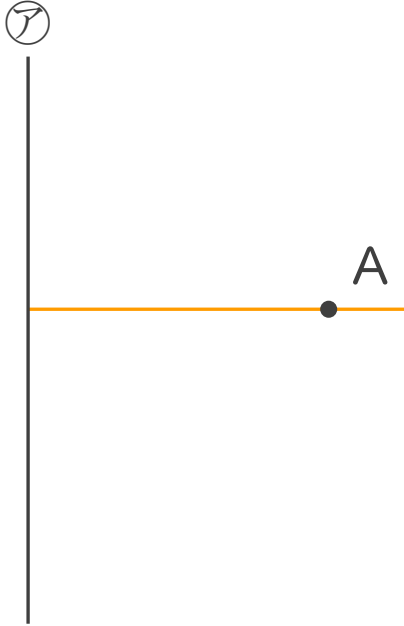
● 垂直な直線をひく

日にち： 月 日

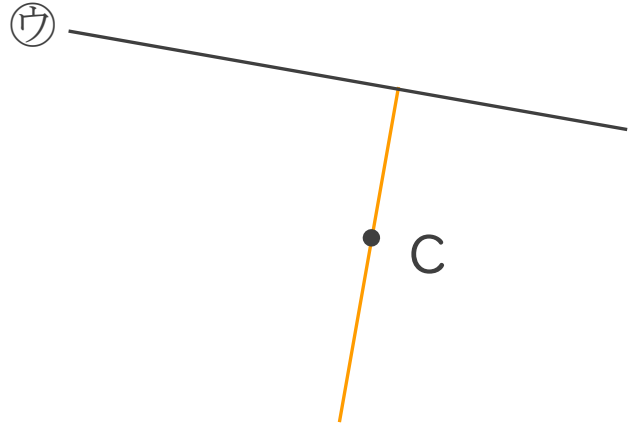
名まえ _____

- ・ 2まいの三角じょうぎを使って、次の点を通り、直線に垂直な直線をひきましょう。

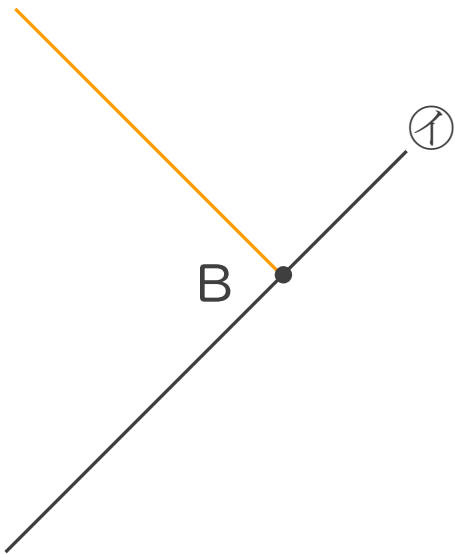
①



③



②



④

