



面積の  
はかり方と表し方 9

◎ 平方キロメートルの面積



日にち：            月            日

名まえ \_\_\_\_\_

・ 次の問いに答えましょう。

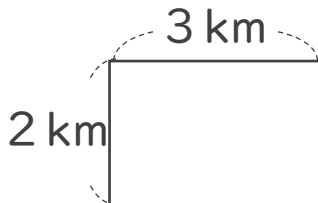
1 たて8km、横8kmの浮島の面積は、何 $\text{km}^2$ でしょう。

式：

答え： \_\_\_\_\_

2 次の図形の面積を求めましょう。

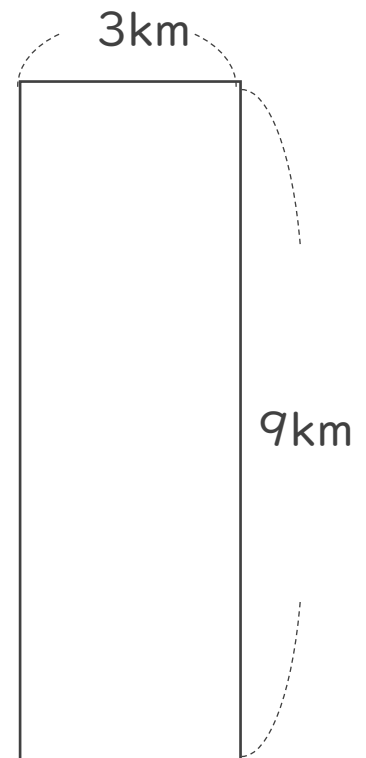
①



式：

答え： \_\_\_\_\_

②



式：

答え： \_\_\_\_\_



面積の  
はかり方と表し方 9

◎ 平方キロメートルの面積



日にち：            月            日

名まえ \_\_\_\_\_

・ 次の問いに答えましょう。

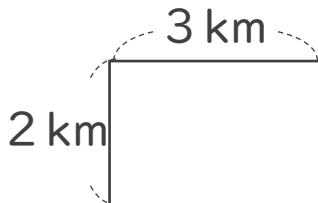
1 たて8km、横8kmの浮島の面積は、何 $\text{km}^2$ でしょう。

$$\text{式： } 8 \times 8 = 64$$

$$\text{答え： } \underline{64 \text{ km}^2}$$

2 次の図形の面積を求めましょう。

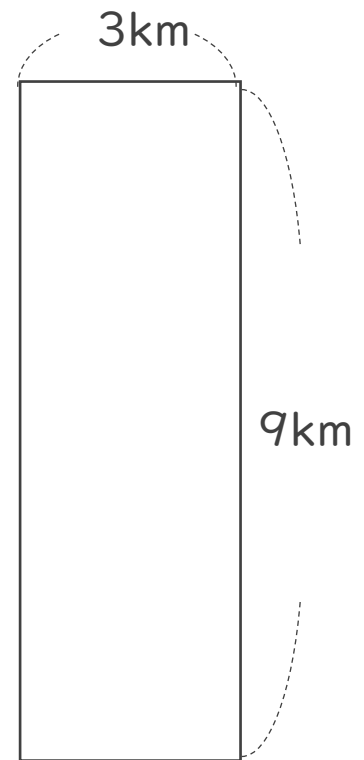
①



$$\text{式： } 2 \times 3 = 6$$

$$\text{答え： } \underline{6 \text{ km}^2}$$

②



$$\text{式： } 9 \times 3 = 27$$

$$\text{答え： } \underline{27 \text{ km}^2}$$