



# 小数の表し方5

◎ 数直線の読みとり



日にち：        月        日

名まえ \_\_\_\_\_

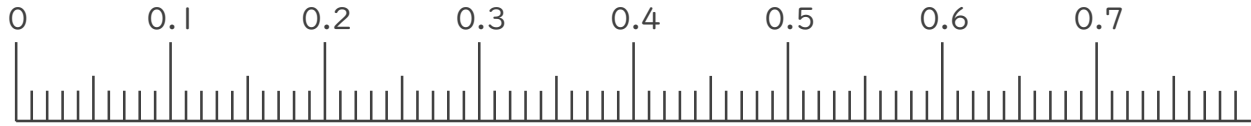
1. 次の小数を表すめもりに ↑ を書きましょう。

① 0.03

② 0.22

③ 0.47

④ 0.63

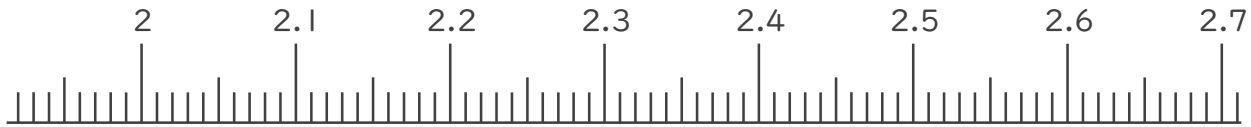


⑤ 2.01

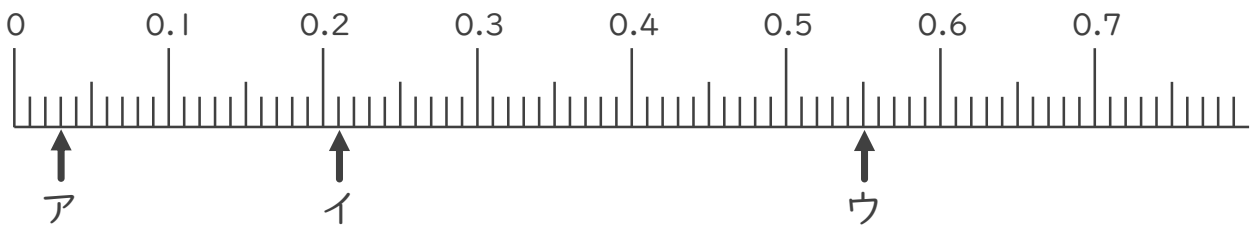
⑥ 2.19

⑦ 2.54

⑧ 2.65



2. 次の数直線でア～オが表す数を答えましょう。



ア

イ

ウ



# 小数の表し方5

◎ 数直線の読みとり



日にち：      月      日

名まえ \_\_\_\_\_

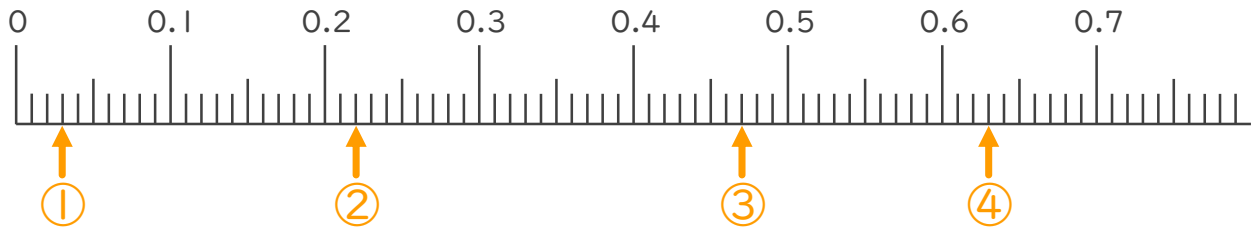
1. 次の小数を表すめもりに ↑ を書きましょう。

① 0.03

② 0.22

③ 0.47

④ 0.63

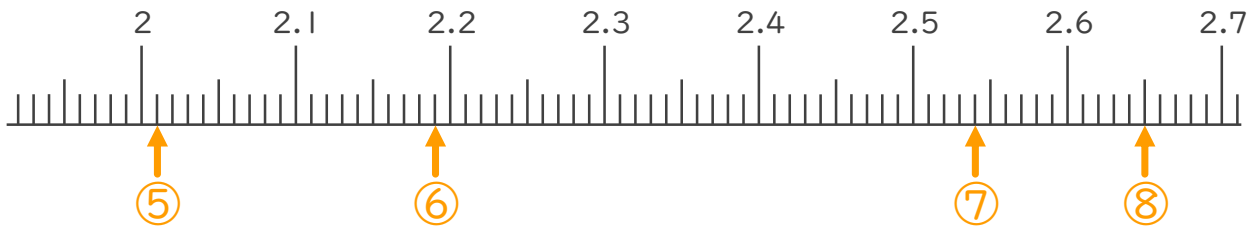


⑤ 2.01

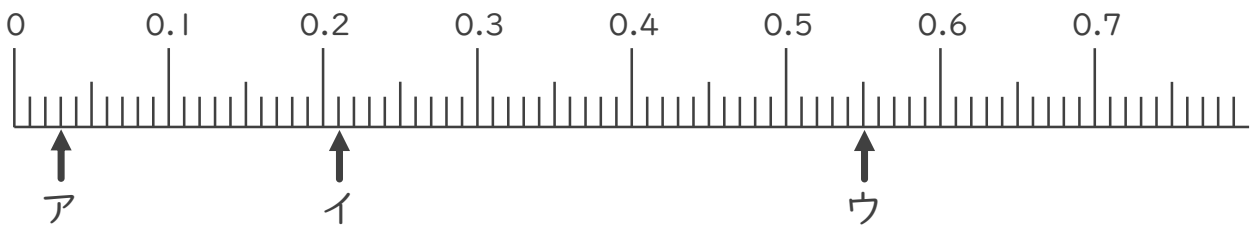
⑥ 2.19

⑦ 2.54

⑧ 2.65



2. 次の数直線でア～オが表す数を答えましょう。



ア 0.03

イ 0.21

ウ 0.55

