



小数の表し方8

◎ 数直線の読みとり
(小数第三位)

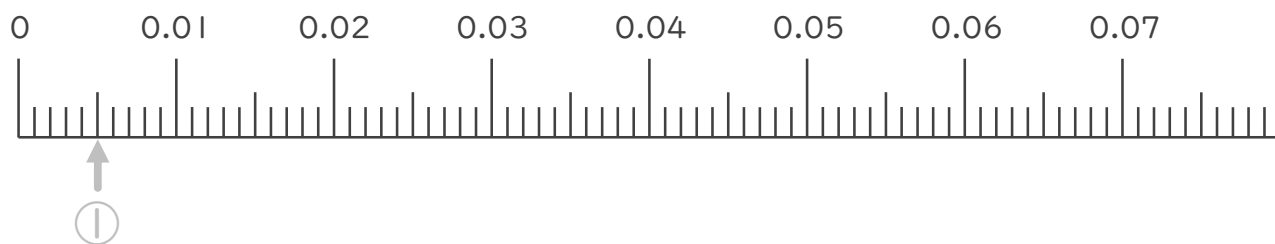


日にち： 月 日

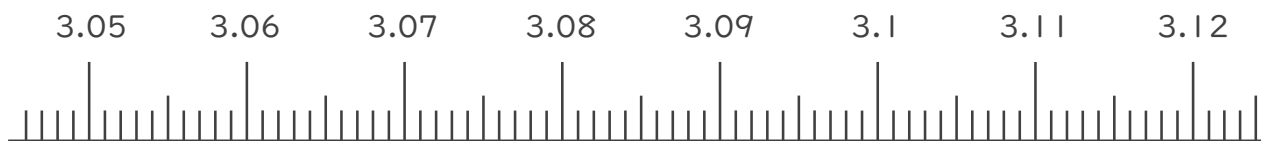
名まえ _____

1. 次の小数を表すめもりに ↑ を書きましょう。

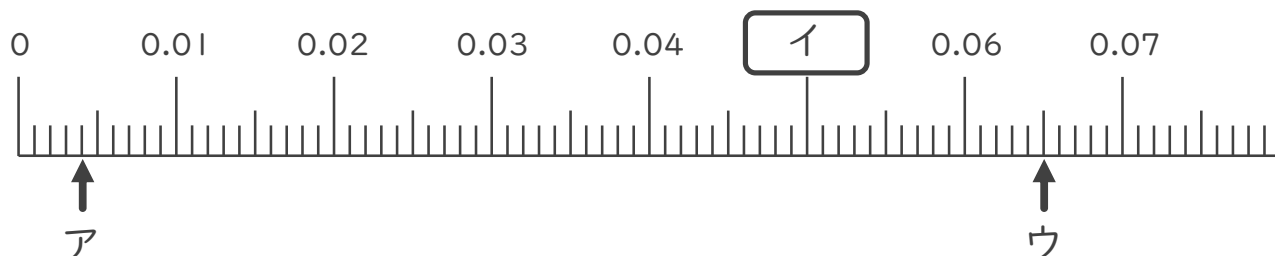
- ① 0.005
- ② 0.019
- ③ 0.041
- ④ 0.065



- ⑤ 3.052
- ⑥ 3.068
- ⑦ 3.094
- ⑧ 3.111



2. 次の数直線でア～ウが表す数を答えましょう。




ア _____

イ _____

ウ _____





小数の表し方 8

◎ 数直線の読みとり
(小数第三位)

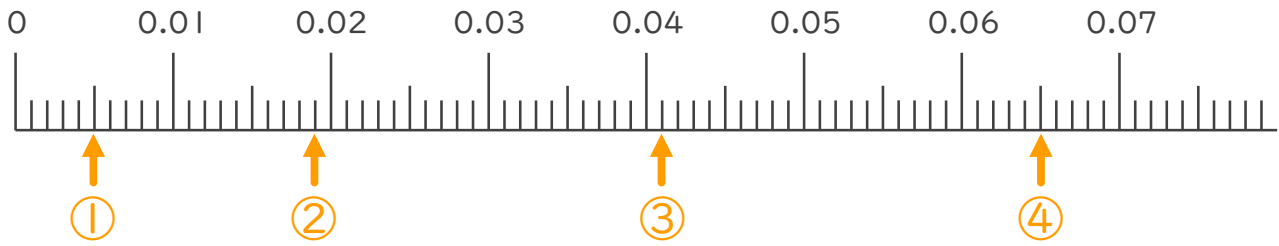


日にち： 月 日

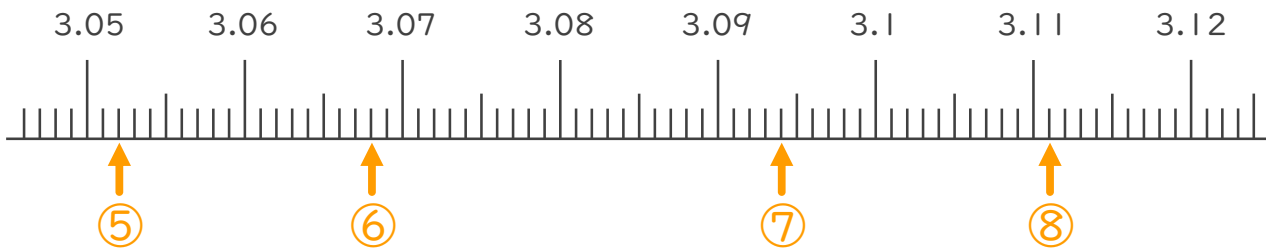
名まえ _____

1. 次の小数を表すめもりに ↑ を書きましょう。

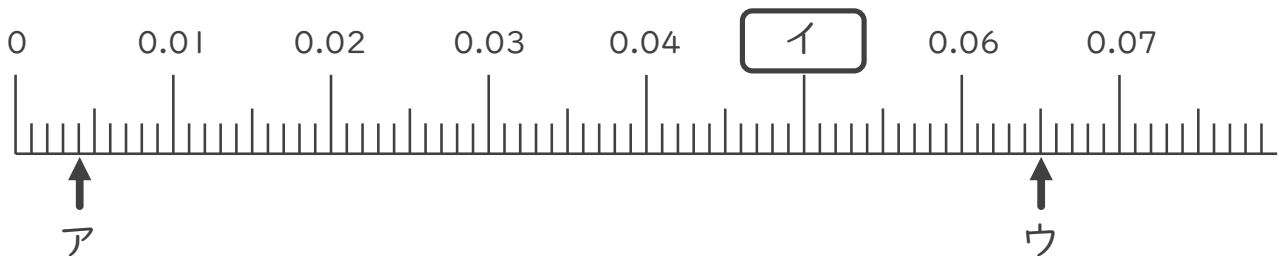
- ① 0.005 ② 0.019 ③ 0.041 ④ 0.065



- ⑤ 3.052 ⑥ 3.068 ⑦ 3.094 ⑧ 3.111



2. 次の数直線でア～ウが表す数を答えましょう。



ア 0.004

イ 0.05

ウ 0.065

