



# 小数の表し方8

㊦ 数直線の読みとり  
(小数第三位)

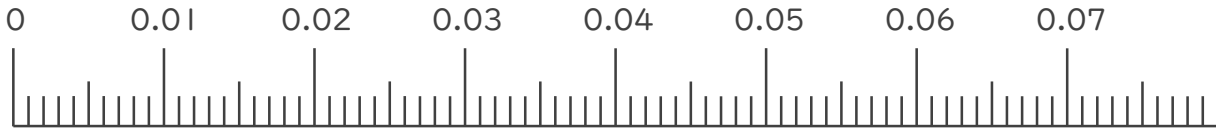


日にち：      月      日

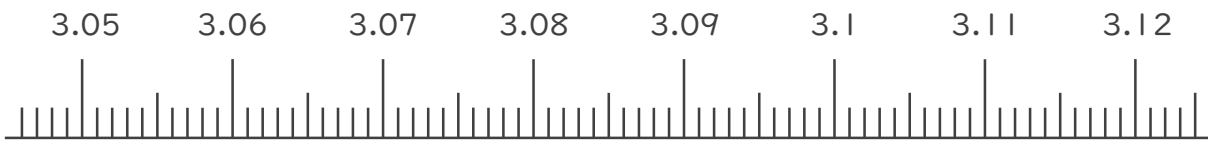
名まえ \_\_\_\_\_

1. 次の小数を表すめもりに ↑ を書きましょう。

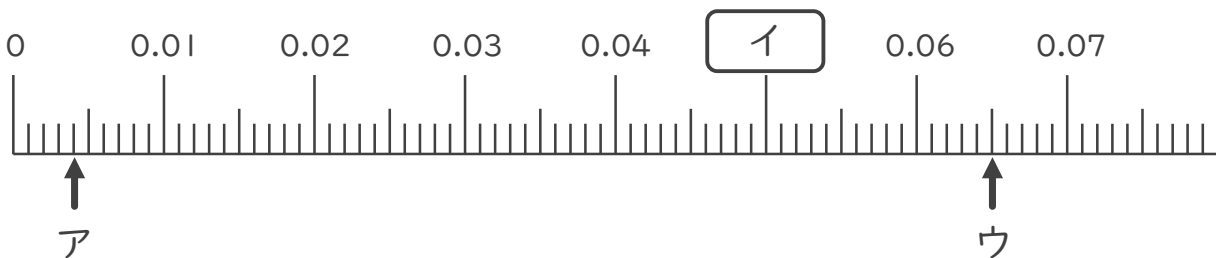
- ① 0.005
- ② 0.019
- ③ 0.041
- ④ 0.065



- ⑤ 3.052
- ⑥ 3.068
- ⑦ 3.094
- ⑧ 3.111



2. 次の数直線でア～ウが表す数を答えましょう。



ア \_\_\_\_\_

イ \_\_\_\_\_

ウ \_\_\_\_\_





# 小数の表し方8

㉞ 数直線の読みとり  
(小数第三位)

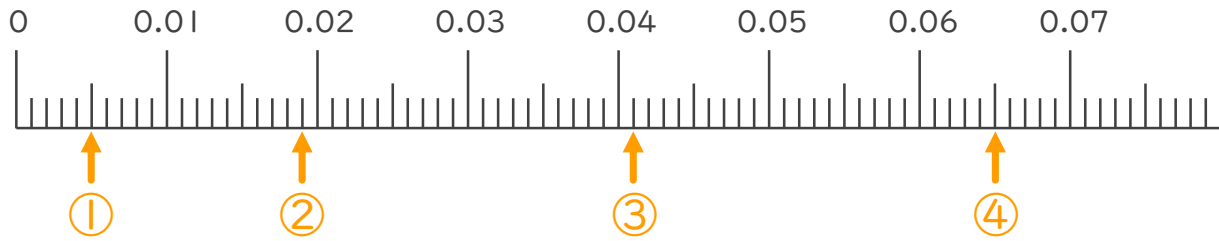


日にち：      月      日

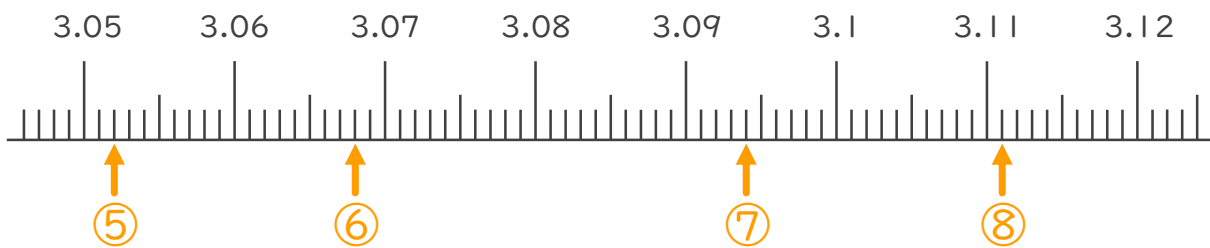
名まえ \_\_\_\_\_

1. 次の小数を表すめもりに ↑ を書きましょう。

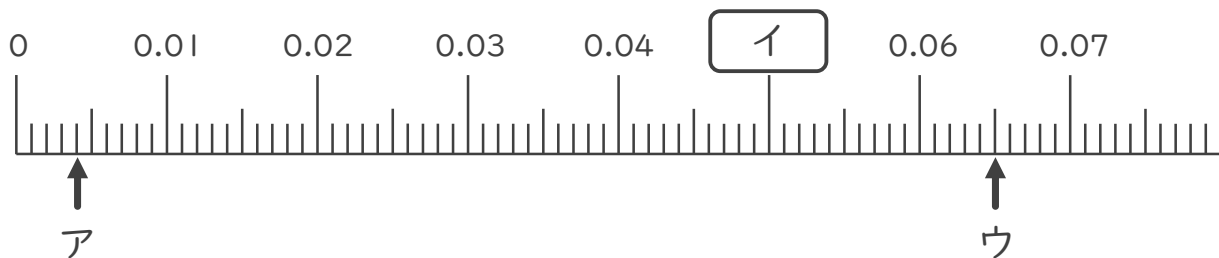
- ① 0.005      ② 0.019      ③ 0.041      ④ 0.065



- ⑤ 3.052      ⑥ 3.068      ⑦ 3.094      ⑧ 3.111



2. 次の数直線でア～ウが表す数を答えましょう。



ア 0.004      イ 0.05      ウ 0.065

