



小数の表し方 4

◎ 水のかさをぬる

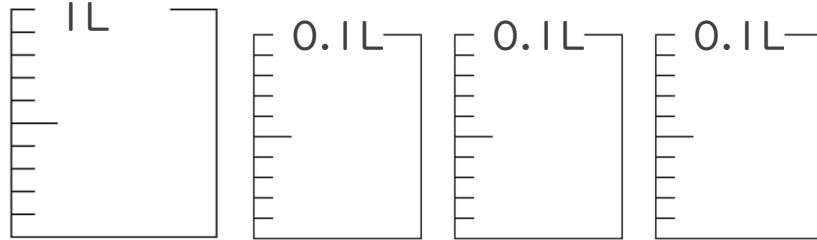


日にち： 月 日

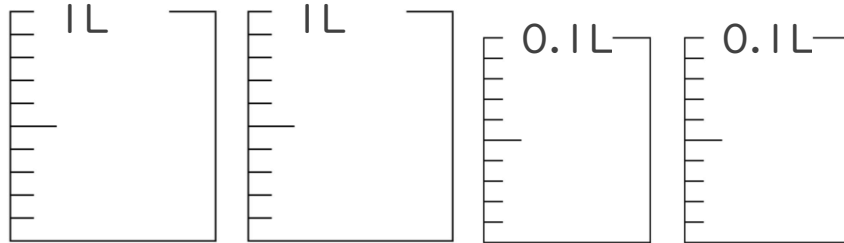
名まえ _____

・ 次の水のかさの分だけ色をぬりましょう。

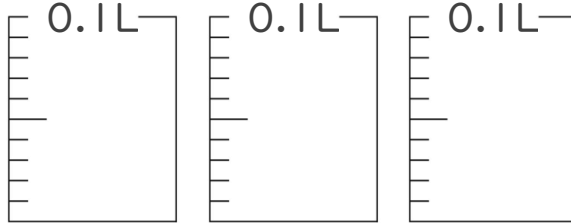
① 1.25 L



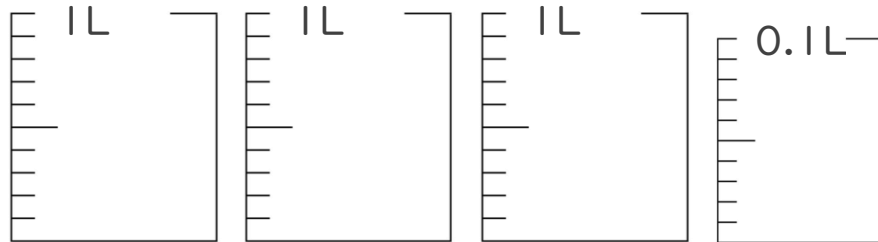
② 2.14 L



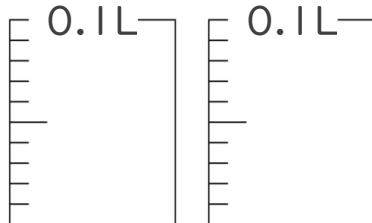
③ 0.28 L



④ 3.07 L



⑤ 0.12 L





小数の表し方 4

◎ 水のかさをぬる

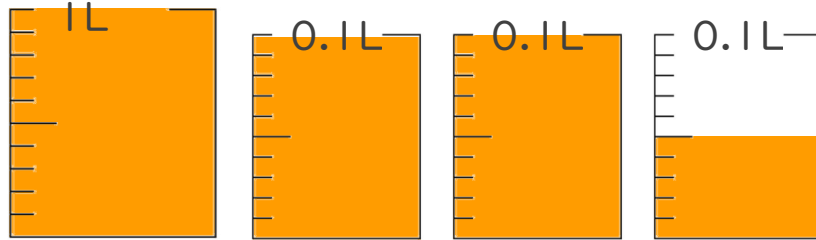


日にち： 月 日

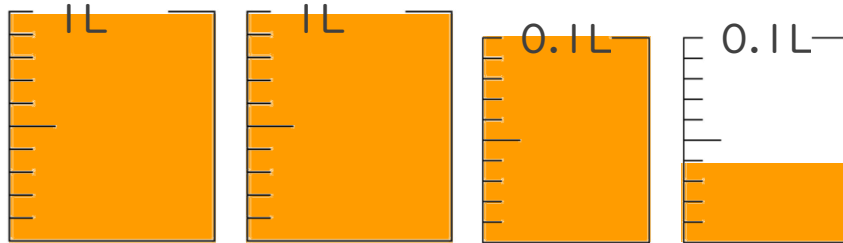
名まえ _____

・ 次の水のかさの分だけ色をぬりましょう。

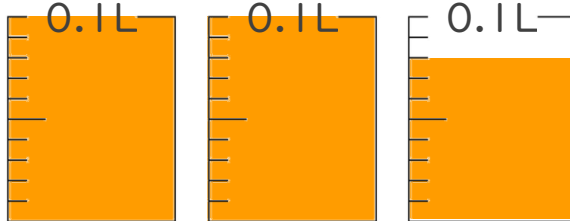
① 1.25 L



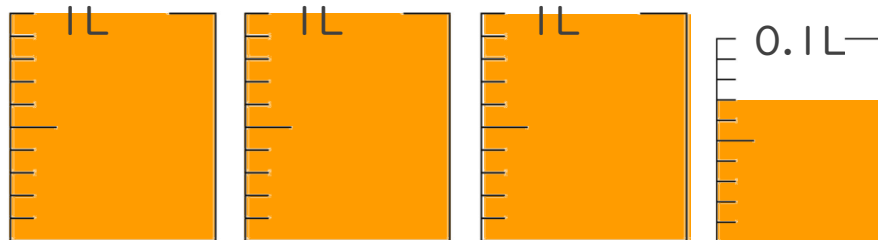
② 2.14 L



③ 0.28 L



④ 3.07 L



⑤ 0.12 L

