

分数 (分数の表し方) 2

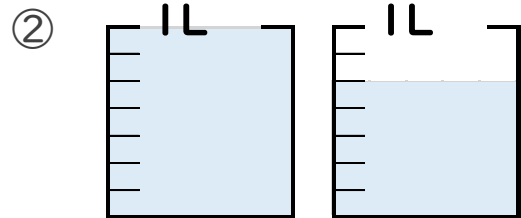
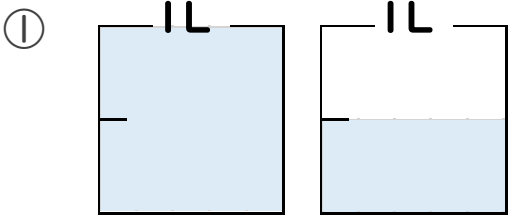
水のかさ を 帯分数 と 仮分数 で 表す



日にち： 月 日

名まえ _____

1 水のかさは何Lですか。仮分数と帯分数の両方で表しましょう。



答え 仮分数…

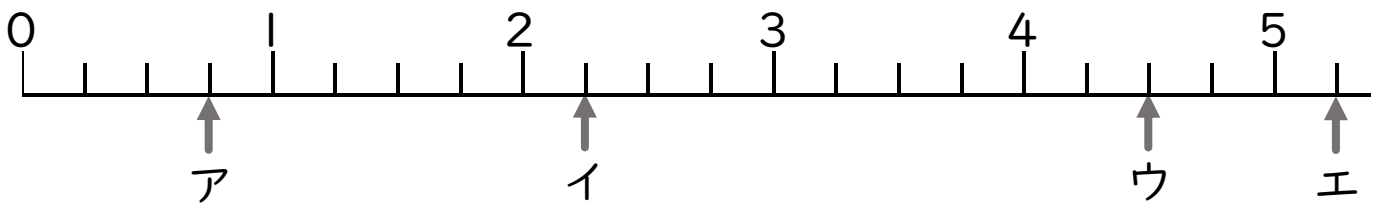
答え 仮分数…

帯分数…

帯分数…

2 ア～オのめもりが表す分数はいくつですか。

1より大きい分数は、仮分数と帯分数の両方で表しましょう。




答え ア

イ

ウ

エ



分数 (分数の表し方) 2

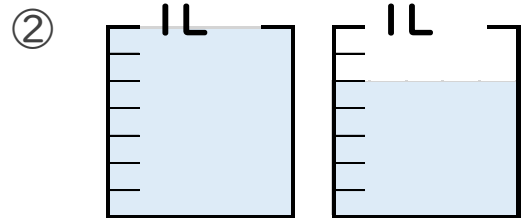
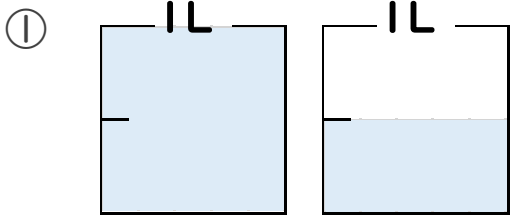
水のかさ を 帯分数 と 仮分数 で 表す



日にち： 月 日

名まえ

1 水のかさは何Lですか。仮分数と帯分数の両方で表しましょう。



答え 仮分数... $\frac{3}{2}$ L

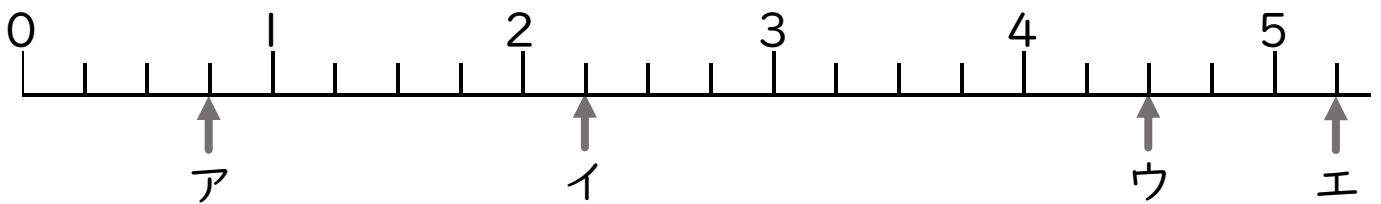
答え 仮分数... $\frac{12}{7}$ L

帯分数... $1\frac{1}{2}$ L

帯分数... $1\frac{5}{7}$ L

2 ア～オのめもりが表す分数はいくつですか。

1より大きい分数は、仮分数と帯分数の両方で表しましょう。



答え ア $\frac{3}{4}$

イ $\frac{9}{4}$, $2\frac{1}{4}$

ウ $\frac{18}{4}$, $2\frac{2}{4}$

エ $\frac{21}{4}$, $5\frac{1}{4}$