



分数 (分数の表し方) |

真分数・帯分数・仮分数とは



日にち： 月 日

名まえ

1 次の分数は、真分数、仮分数、帯分数のどれですか。

① $\frac{2}{9}$

② $\frac{8}{5}$

③ $1\frac{1}{6}$

④ $\frac{7}{7}$

⑤ $\frac{13}{4}$

⑥ $\frac{2}{7}$

答え： ①

②

③

④

⑤

⑥

2 色をぬった部分の長さを、仮分数と帯分数の両方で表しましょう


①



答え： 仮分数…

帯分数…

②



答え： 仮分数…

帯分数…



分数 (分数の表し方) ①

真分数・帯分数・仮分数とは



日にち： 月 日

名まえ

1 次の分数は、真分数、仮分数、帯分数のどれですか。

① $\frac{2}{9}$

② $\frac{8}{5}$

③ $1\frac{1}{6}$

④ $\frac{7}{7}$

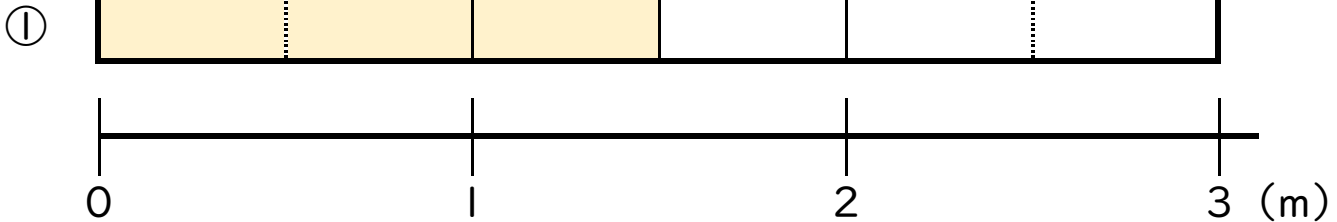
⑤ $\frac{13}{4}$

⑥ $\frac{2}{7}$

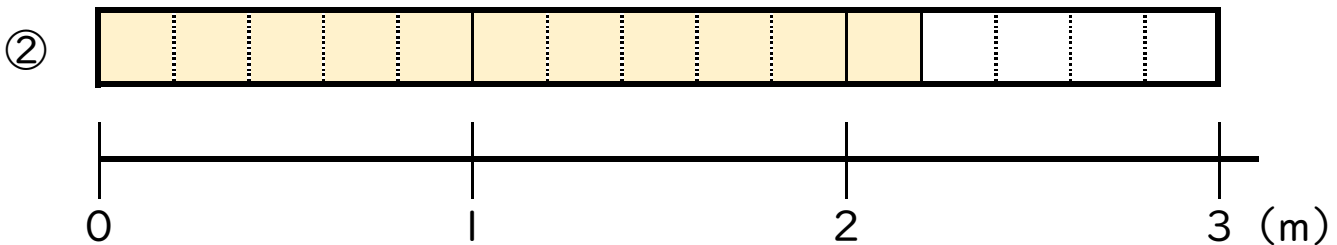
答え： ① 真分数 ② 仮分数 ③ 帯分数

④ 仮分数 ⑤ 仮分数 ⑥ 真分数

2 色をぬった部分の長さを、仮分数と帯分数の両方で表しましょう



答え： 仮分数… $\frac{3}{2}$ 帯分数… $1\frac{1}{2}$



答え： 仮分数… $\frac{11}{5}$ 帯分数… $2\frac{1}{5}$

