

## 直方体や立方体 9

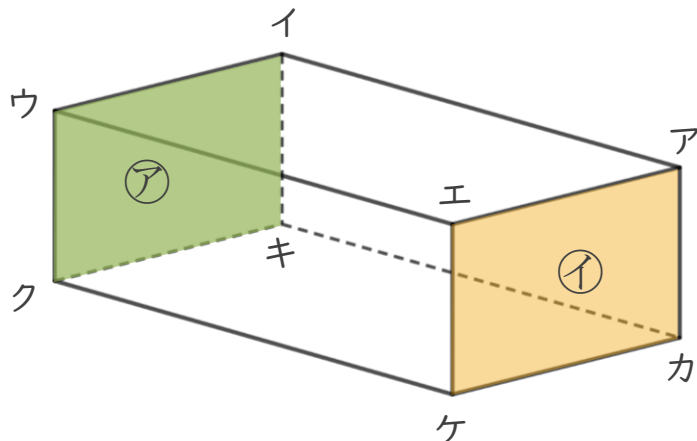
◎ 辺と面の関係 (垂直)



日にち：            月            日

名まえ \_\_\_\_\_

- ・ 辺と面の関係について調べましょう。



- ① 面アと垂直な辺を全部書きましょう。

答え \_\_\_\_\_

- ② 面イと垂直な辺を全部書きましょう。

答え \_\_\_\_\_


- ③ 面ウクケエと垂直な辺を全部書きましょう。

答え \_\_\_\_\_

- ④ 面イウエアと垂直な辺を全部書きましょう。

答え \_\_\_\_\_





## 直方体や立方体 9

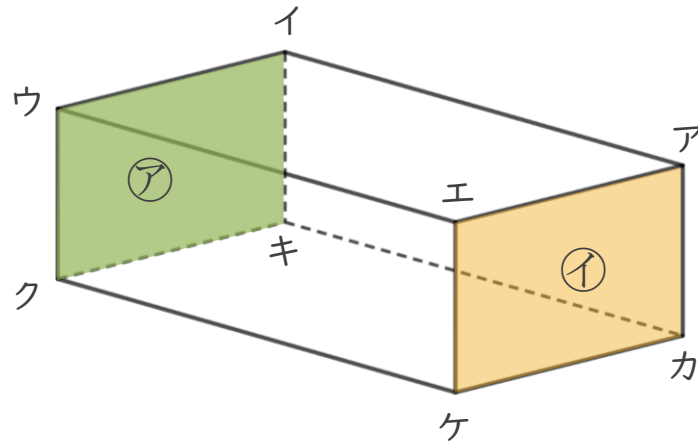
◎ 辺と面の関係 (垂直)



日にち：            月            日

名まえ \_\_\_\_\_

- ・ 辺と面の関係について調べましょう。



- ① 面アと垂直な辺を全部書きましょう。

答え 辺イア , 辺ウエ , 辺キカ , 辺クケ

- ② 面イと垂直な辺を全部書きましょう。

答え 辺イア , 辺ウエ , 辺キカ , 辺クケ

- ③ 面ウクケエと垂直な辺を全部書きましょう。

答え 辺ウイ , 辺クキ , 辺ケカ , 辺エア

- ④ 面イウエアと垂直な辺を全部書きましょう。

答え 辺イキ , 辺ウク , 辺エケ , 辺アカ

