



面積の
はかり方と表し方 4



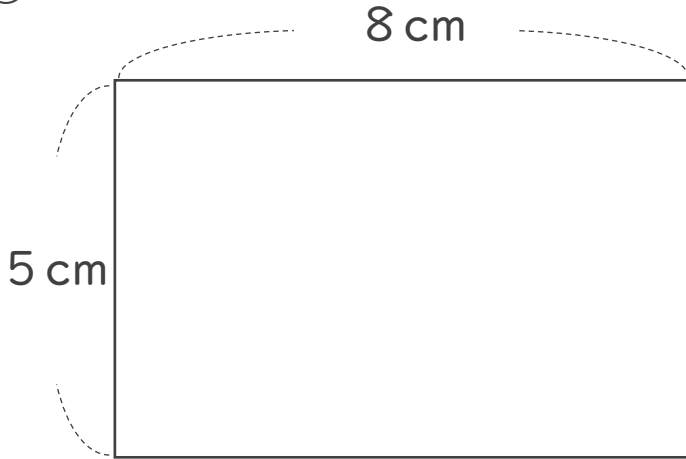
◎ 長方形や正方形の面積

日にち： 月 日

名まえ _____

・ 次の長方形や正方形の面積は何 cm^2 ですか。

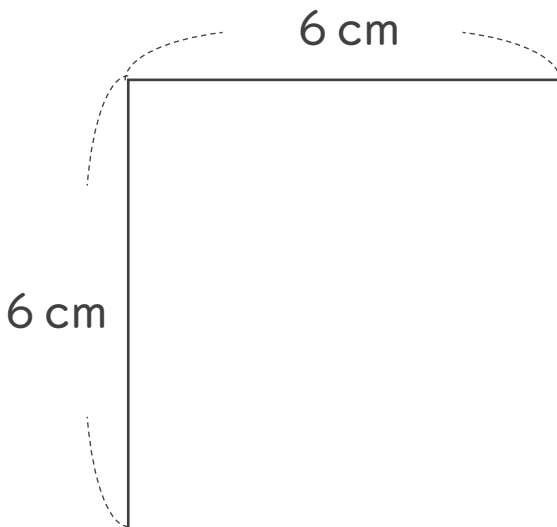
①



式：

答え： _____

②



式：

答え： _____



面積の
はかり方と表し方 4



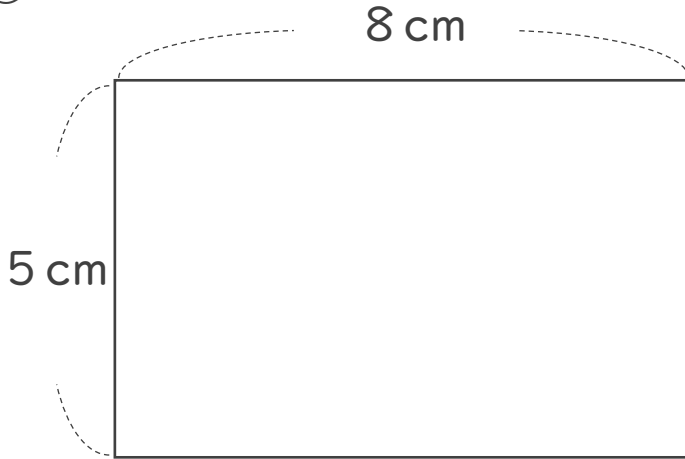
● 長方形や正方形の面積

日にち： 月 日

名まえ _____

・ 次の長方形や正方形の面積は何 cm^2 ですか。

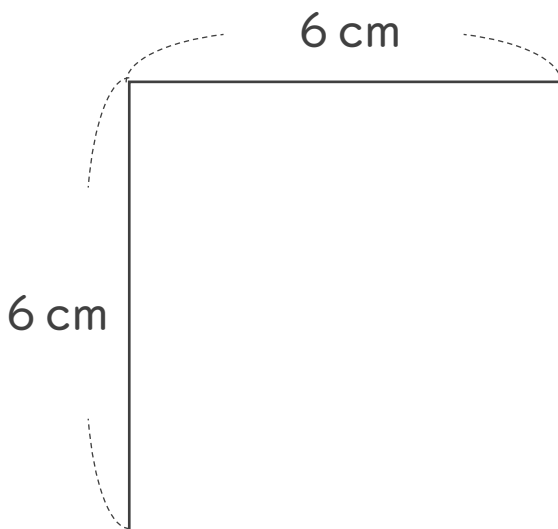
①



式： $5 \times 8 = 40$

答え： 40 cm^2

②



式： $6 \times 6 = 36$

答え： 36 cm^2