



小数のしくみ7

◎ 6より0.03小さい数



日にち： 月 日

名まえ _____

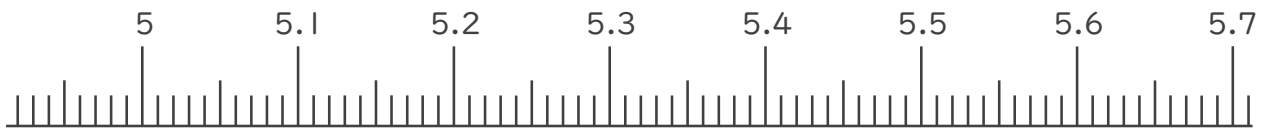
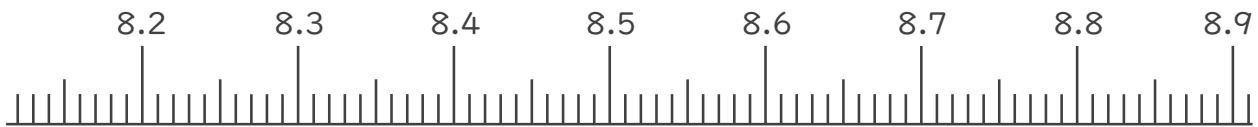
1. 下の数直線で、ア～エの数を表すめもりに ↑ をかきましょう。
また、 ↑ の下にア～エの記号とその数をかきましょう。

ア 8.2より0.07大きい数

イ 8.9より0.08小さい数

ウ 5より0.07大きい数

エ 5.7より0.04小さい数



2. 次の数はいくつですか。

① 7と0.3をあわせた数

答え _____

② 1を9こ、0.01を4こあわせた数

答え _____

③ 1を4こ、0.1を2こ、0.01を8こあわせた数

答え _____





小数のしくみ7

© 6より0.03小さい数



日にち： 月 日

名まえ

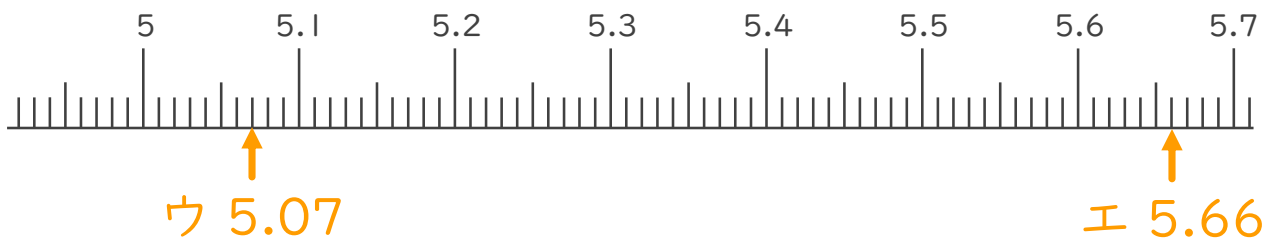
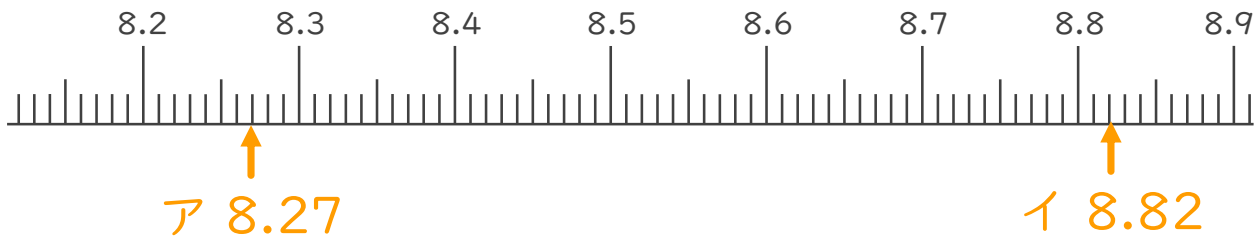
1. 下の数直線で、ア～エの数を表すめもりに ↑ をかきましょう。
また、 ↑ の下にア～エの記号とその数をかきましょう。

ア 8.2より0.07大きい数

イ 8.9より0.08小さい数

ウ 5より0.07大きい数

エ 5.7より0.04小さい数



2. 次の数はいくつですか。

① 7と0.3をあわせた数

答え 7.3

② 1を9こ、0.01を4こあわせた数

答え 9.04

③ 1を4こ、0.1を2こ、0.01を8こあわせた数

答え 4.28

