



垂直、平行と  
四角形2

8

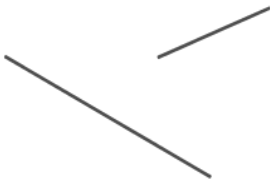
2直線と垂直

日にち： 月 日

名まえ \_\_\_\_\_

・次の図で、2本の直線が垂直であるものを㉠～㉧の中から全て  
選びましょう。

㉠



㉡



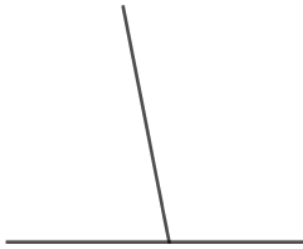
㉢




㉣




㉤



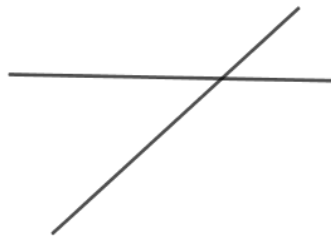
㉥



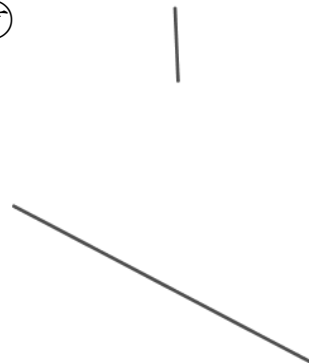
㉦



㉧



㉨



答え： \_\_\_\_\_





垂直, 平行と  
四角形 2



2直線と垂直

日にち：            月            日

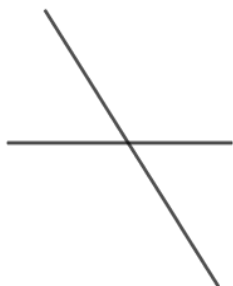
名まえ \_\_\_\_\_

・ 次の図で、2本の直線が垂直であるものを㉠～㉧の中から全て  
選びましょう。

㉠



㉡



㉢



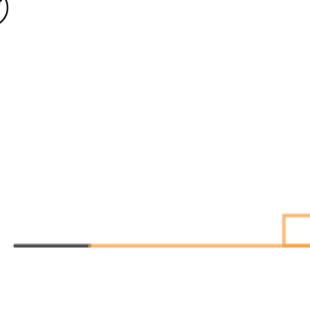
㉣



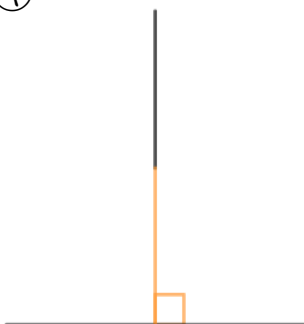
㉤



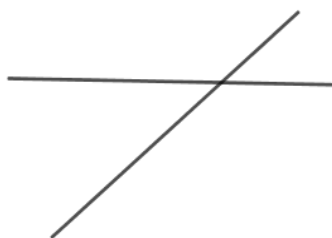
㉥



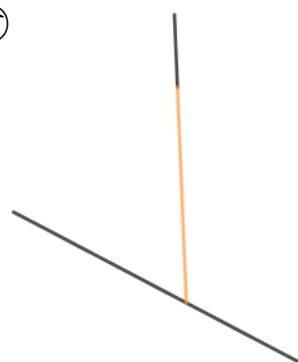
㉦



㉧



㉨



答え：

㉣, ㉥, ㉦

