



垂直, 平行と 四角形2

2直線と垂直

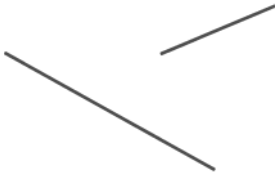


日にち： 月 日

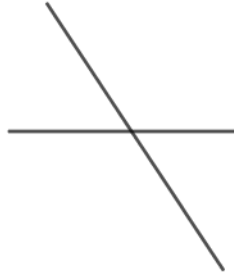
名まえ _____

次の図で、2本の直線が垂直であるものを㉠～㉧の中から全て選びましょう。

㉠



㉡



㉢



㉣




㉤



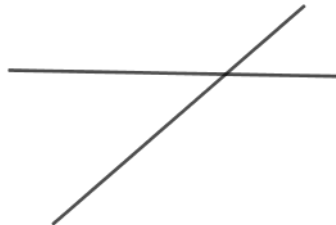
㉥



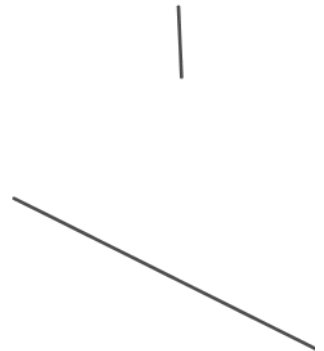
㉦



㉧



㉨



答え： _____





垂直, 平行と 四角形2

2直線と垂直

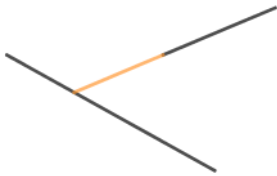


日にち： 月 日

名まえ _____

次の図で、2本の直線が垂直であるものを㉠～㉧の中から全て選びましょう。

㉠



㉡



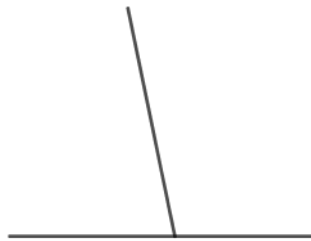
㉢



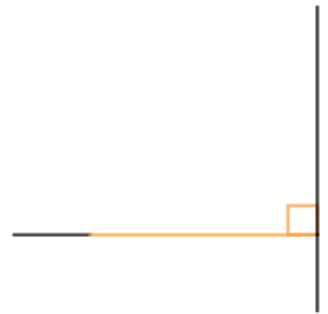
㉣



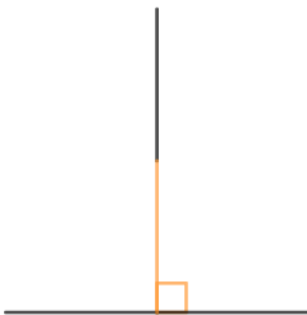
㉤



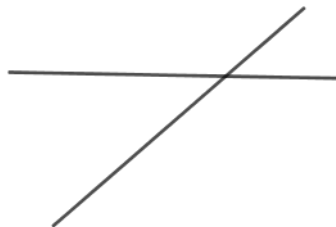
㉥



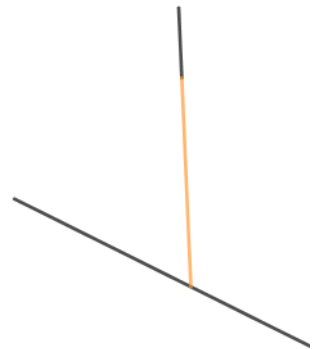
㉦



㉧



㉨



答え： ㉣, ㉥, ㉦

