

小数のわり算 18

● わり進み
(1桁の整数 ÷ 1桁の整数)




日にち： 月 日


名まえ

・ 次の計算をわりきれぬまでしましょう。


① $9 \div 4$




② $2 \div 8$




③ $6 \div 8$




④ $3 \div 4$




⑤ $1 \div 4$



⑥ $7 \div 4$





小数のわり算 18

わり進み
(1桁の整数 ÷ 1桁の整数)



日にち： 月 日

名まえ

次の計算をわりきれぬまでしましょう。

① $9 \div 4$

	2	2	5
4)	9	.00
	8		
	1	0	
		8	
		2	0
		2	0
			0

② $2 \div 8$

	0	2	5
8)	2	.00
	1	6	
		4	0
		4	0
			0

③ $6 \div 8$

	0	7	5
8)	6	.00
	5	6	
		4	0
		4	0
			0

④ $3 \div 4$

	0	7	5
4)	3	.00
	2	8	
		2	0
		2	0
			0

⑤ $1 \div 4$

	0	2	5
4)	1	.00
		8	
		2	0
		2	0
			0

⑥ $7 \div 4$

	1	7	5
4)	7	.00
	4		
		3	0
		2	8
			20
			20
			0

