



面積の
はかり方と表し方 2

◎ マス目の数で広さくらべ

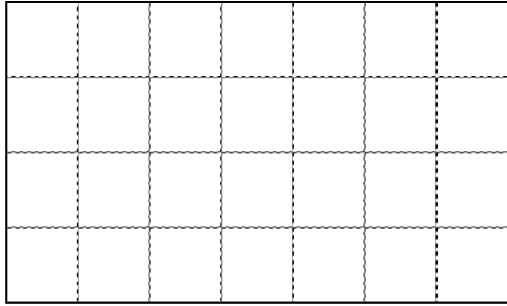


日にち： 月 日


名まえ _____

・ 次の図形は1マスが1cm²です。次の問いに答えましょう。

ア



イ



① 図形はそれぞれ何マスですか。

ア :

イ :

② 図形はそれぞれ何cm²ですか。

ア :

イ :

③ どちらが広いでしょう。

答え : _____



面積の はかり方と表し方 2

◎ マス目の数で広さくらべ

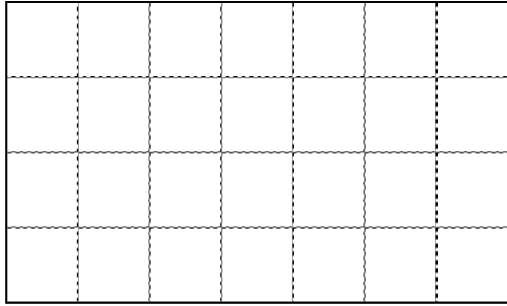


日にち： 月 日


名まえ _____

・ 次の図形は 1 マスが 1 cm^2 です。次の問いに答えましょう。

ア



イ



① 図形はそれぞれ何マスですか。

ア： 28 マス イ： 25 マス

② 図形はそれぞれ何 cm^2 ですか。

ア： 28 cm^2 イ： 25 cm^2

③ どちらが広いでしょう。

答え：

