



# 角の大きさ 3

● 分度器で角度をはかる  
(時計回り)



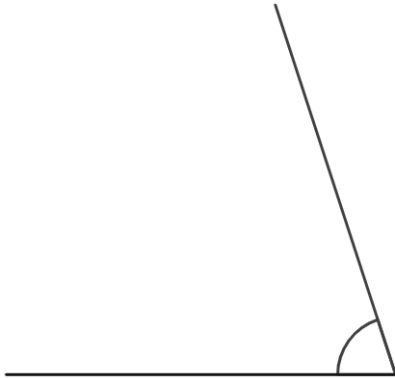
日にち：            月            日

名まえ \_\_\_\_\_

ぶん ど き

・ 分度器を使って角度をはかりましょう。

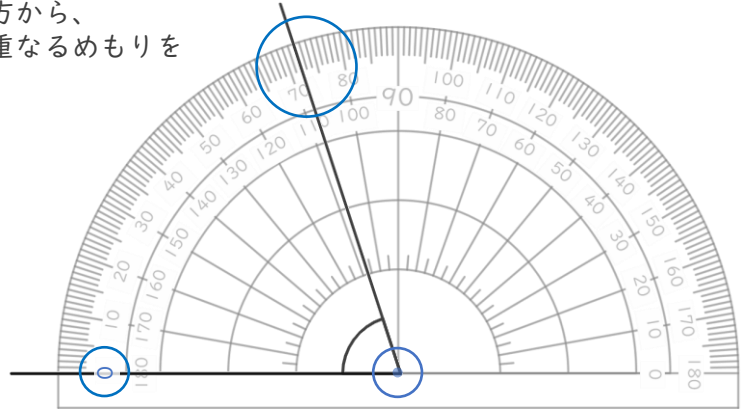
①



答え (            )

0の方から、  
線と重なるめもりを  
読む

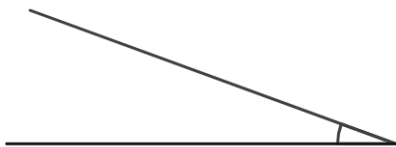
<分度器の使い方>



0に合わせる

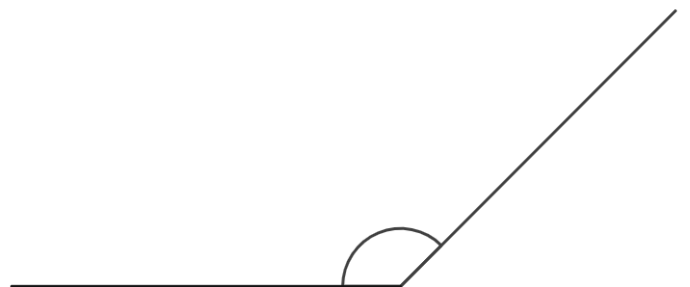
ちょう点を中心に合わせる

②



答え (            )

③



答え (            )



# 角の大きさ 3

● 分度器で角度をはかる  
(時計回り)



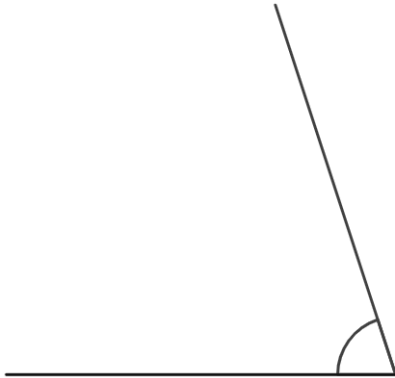
日にち：            月            日

名まえ \_\_\_\_\_

ぶん ど き

・ 分度器を使って角度をはかりましょう。

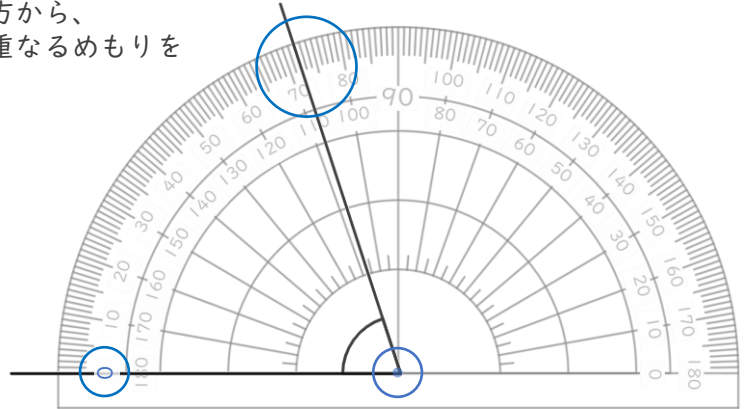
①



答え ( **72°** )

<分度器の使い方>

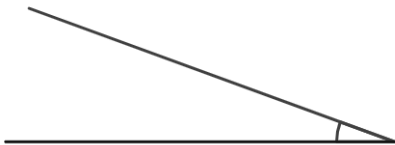
0の方から、  
線と重なるめもりを  
読む



0に合わせる

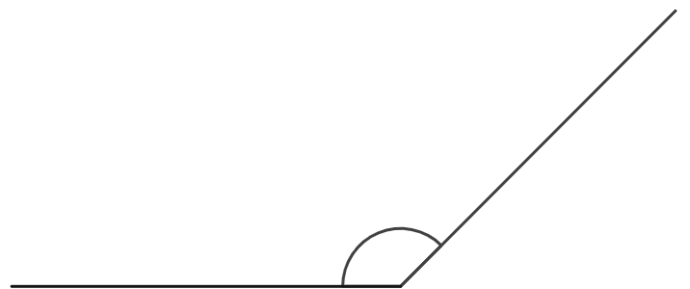
ちょう点を中心に合わせる

②



答え ( **20°** )

③



答え ( **135°** )

