



面積の
はかり方と表し方 9

◎ 平方キロメートルの面積



日にち： 月 日

名まえ _____

・ 次の問いに答えましょう。

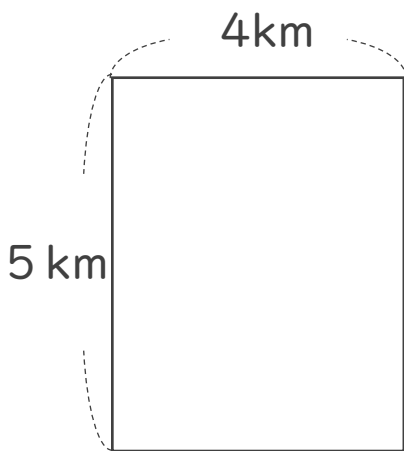
1 たて7km、横9kmのうめたて地の面積は、何 km^2 でしょう。

式：

答え： _____

2 次の図形の面積を求めましょう。

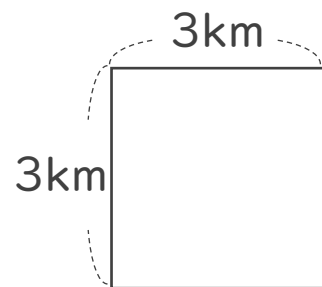
①



式：

答え： _____

②



式：

答え： _____



面積の
はかり方と表し方 9

◎ 平方キロメートルの面積



日にち： 月 日

名まえ _____

・ 次の問いに答えましょう。

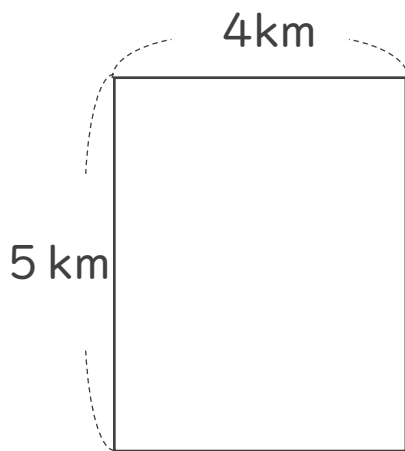
1 たて7km、横9kmのうめたて地の面積は、何 km^2 でしょう。

$$\text{式： } 7 \times 9 = 63$$

$$\text{答え： } \underline{63 \text{ km}^2}$$

2 次の図形の面積を求めましょう。

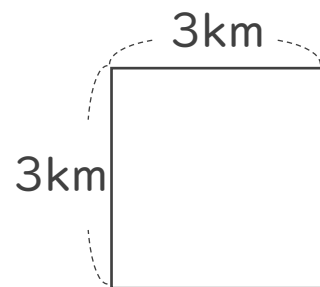
①



$$\text{式： } 5 \times 4 = 20$$

$$\text{答え： } \underline{20 \text{ km}^2}$$

②



$$\text{式： } 3 \times 3 = 9$$

$$\text{答え： } \underline{9 \text{ km}^2}$$