



面積の
はかり方と表し方 9

◎ 平方キロメートルの面積



日にち： 月 日

名まえ _____

・ 次の問いに答えましょう。

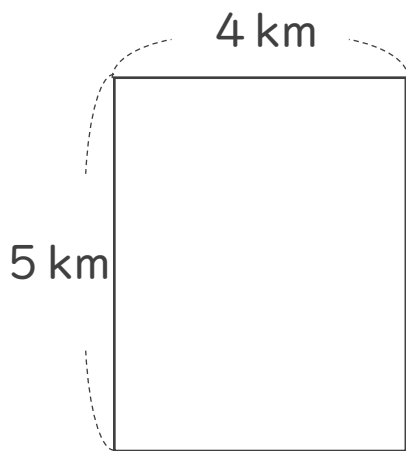
1 たて7 km、横9 kmのうめたて地の面積は、何 km^2 でしょう。

式：

答え： _____

2 次の図形の面積を求めましょう。

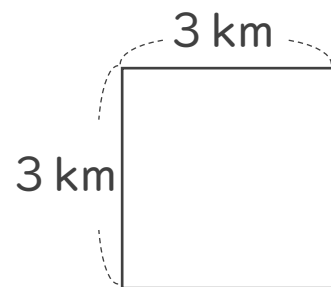
①



式：

答え： _____

②



式：

答え： _____



面積の
はかり方と表し方 9

◎ 平方キロメートルの面積



日にち： 月 日

名まえ _____

・ 次の問いに答えましょう。

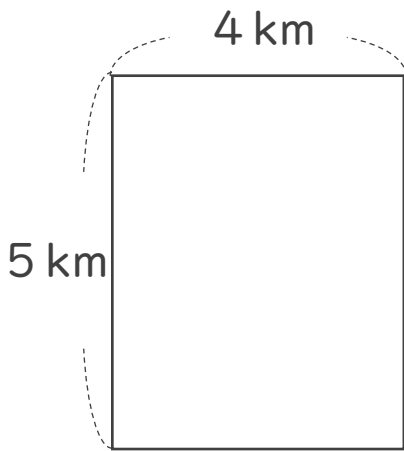
1 たて7 km、横9 kmのうめたて地の面積は、何 km^2 でしょう。

式： $7 \times 9 = 63$

答え： 63 km^2

2 次の図形の面積を求めましょう。

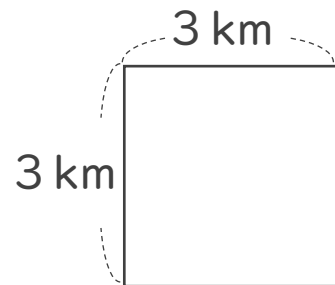
①



式： $5 \times 4 = 20$

答え： 20 km^2

②



式： $3 \times 3 = 9$

答え： 9 km^2