



垂直, 平行と 四角形⑦



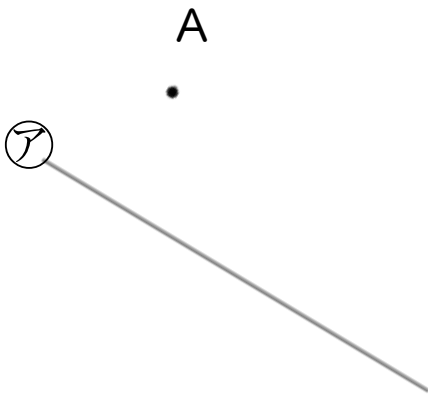
● 平行な直線をひく

日にち： 月 日

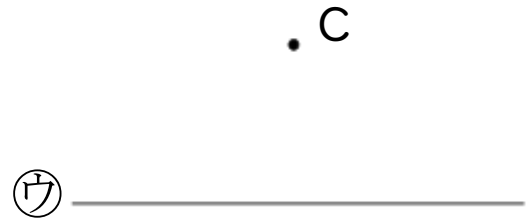
名まえ _____

・ 2まいの三角じょうぎを使って、次の点を通り、直線に平行な直線をひきましょう。

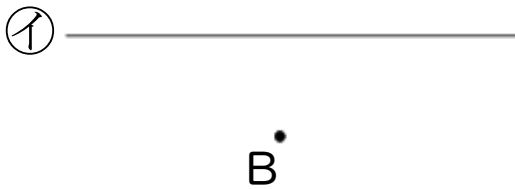
①




③



②



④





垂直, 平行と 四角形 7



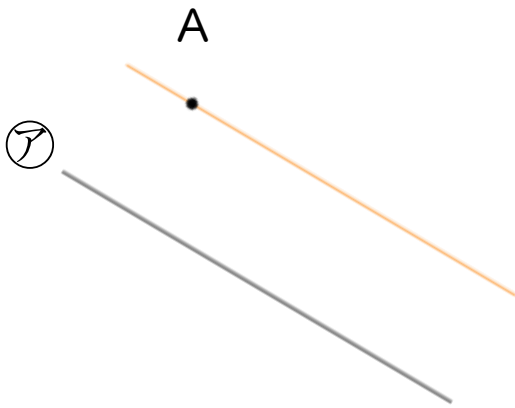
◎ 平行な直線をひく

日にち： 月 日

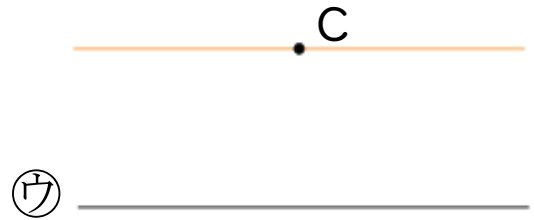
名まえ _____

・ 2まいの三角じょうぎを使って、次の点を通り、直線に平行な直線をひきましょう。

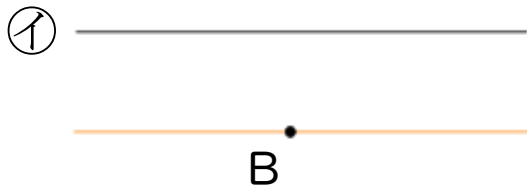
①



③



②



④

