



がい数の 使い方と表し方 ①①

● 数直線と四捨五入のはんい

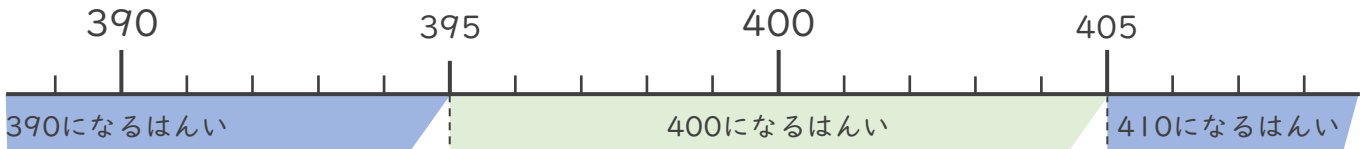


日にち： 月 日

名まえ _____

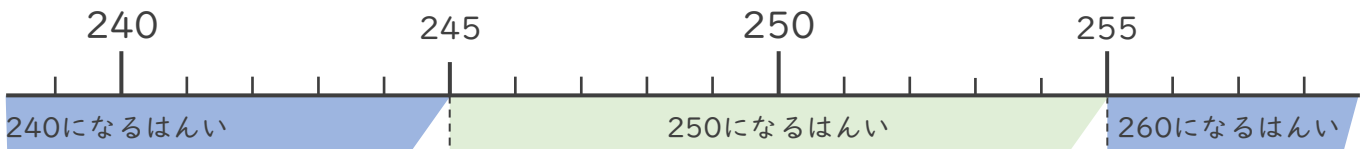
・ 次の問いに答えましょう。

- ① 一の位で四捨五入して400になる整数のうち、いちばん小さい数といちばん大きい数はいくつですか。



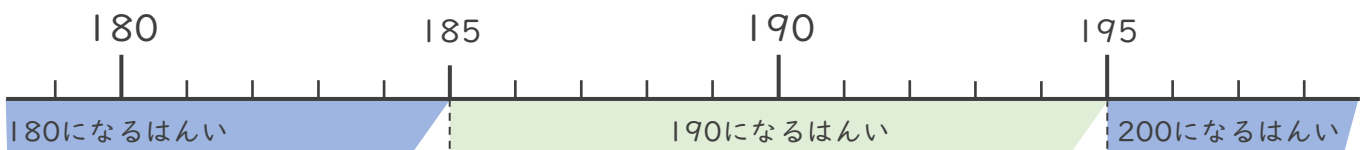
いちばん小さい数 () いちばん大きい数 ()

- ② 一の位で四捨五入して250になる整数のうち、いちばん小さい数といちばん大きい数はいくつですか。



いちばん小さい数 () いちばん大きい数 ()

- ③ 一の位で四捨五入して190になる整数のうち、いちばん小さい数といちばん大きい数はいくつですか。



いちばん小さい数 () いちばん大きい数 ()





がい数の 使い方と表し方 ①

● 数直線と四捨五入のはんい

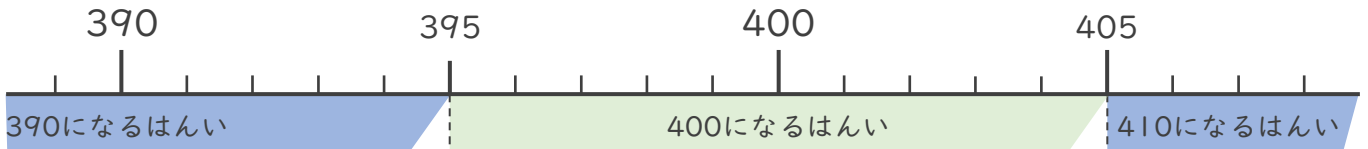


日にち： 月 日

名まえ _____

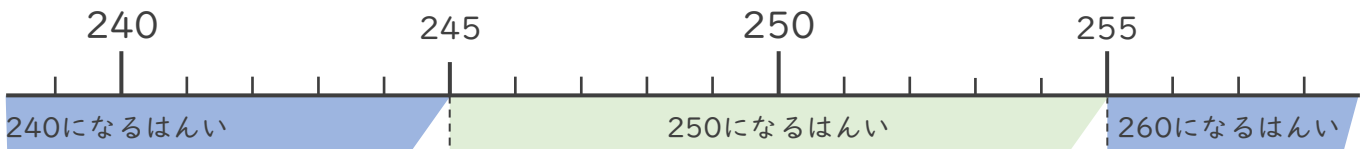
・ 次の問いに答えましょう。

- ① 一の位で四捨五入して400になる整数のうち、いちばん小さい数といちばん大きい数はいくつですか。



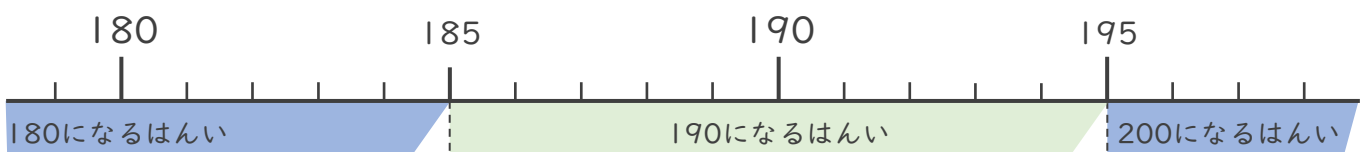
いちばん小さい数 (**395**) いちばん大きい数 (**404**)

- ② 一の位で四捨五入して250になる整数のうち、いちばん小さい数といちばん大きい数はいくつですか。



いちばん小さい数 (**245**) いちばん大きい数 (**254**)

- ③ 一の位で四捨五入して190になる整数のうち、いちばん小さい数といちばん大きい数はいくつですか。



いちばん小さい数 (**185**) いちばん大きい数 (**194**)

