



小数の表し方5

㉞ 数直線の読みとり



日にち： 月 日

名まえ _____

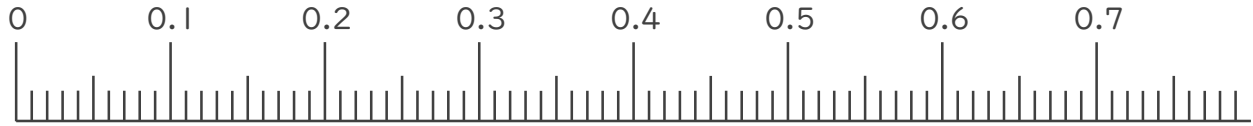
1. 次の小数を表すめもりに ↑ を書きましょう。

① 0.04

② 0.24

③ 0.35

④ 0.68



⑤ 0.99

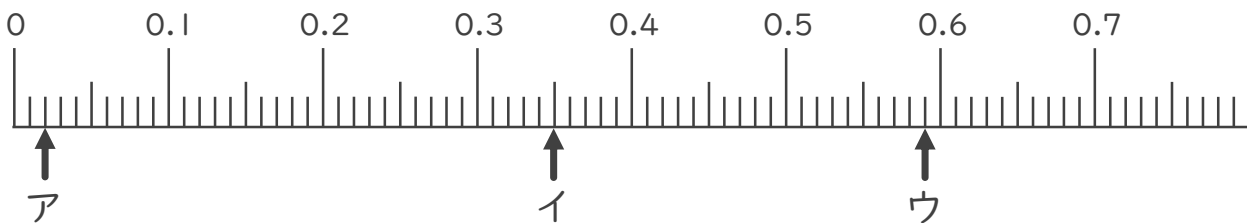
⑥ 1.06

⑦ 1.24

⑧ 1.57



2. 次の数直線でア～オが表す数を答えましょう。



ア _____

イ _____

ウ _____





小数の表し方5

◎ 数直線の読みとり



日にち： 月 日

名まえ _____

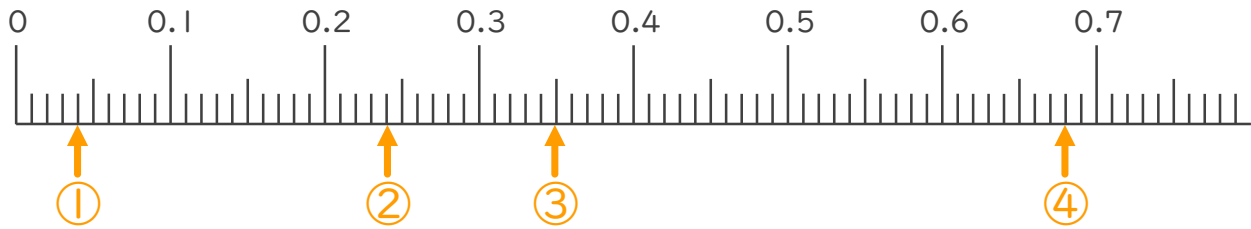
1. 次の小数を表すめもりに ↑ を書きましょう。

① 0.04

② 0.24

③ 0.35

④ 0.68

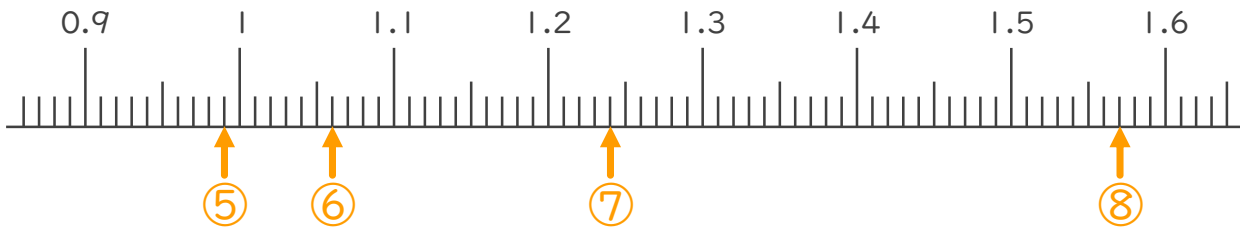


⑤ 0.99

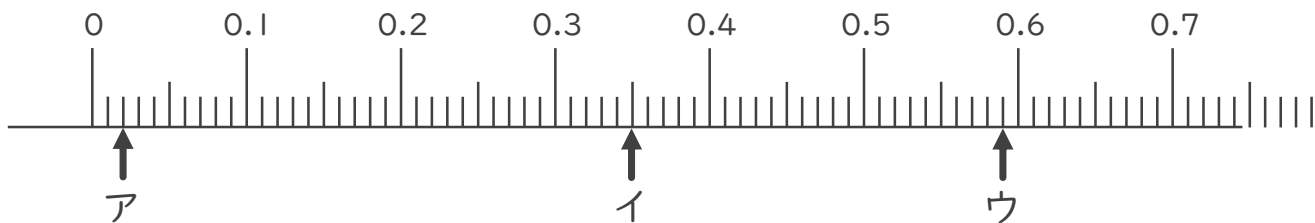
⑥ 1.06

⑦ 1.24

⑧ 1.57



2. 次の数直線でア～オが表す数を答えましょう。



ア 0.02

イ 0.35

ウ 0.59

