



小数の表し方 8

⑨ 数直線の読みとり
(小数第三位)

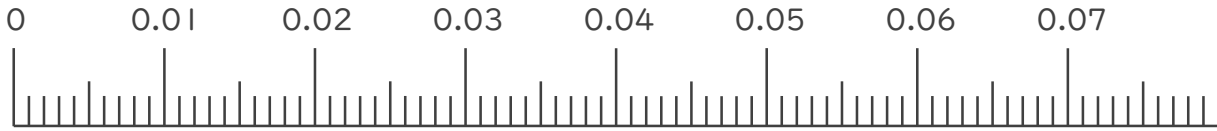


日にち： 月 日

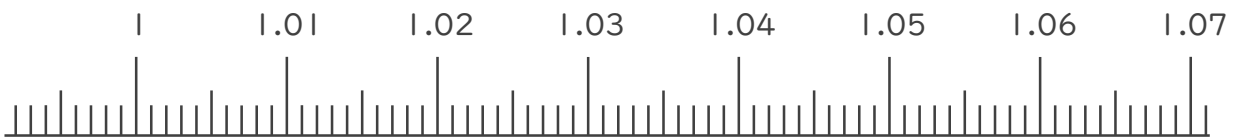
名まえ _____

1. 次の小数を表すめもりに ↑ を書きましょう。

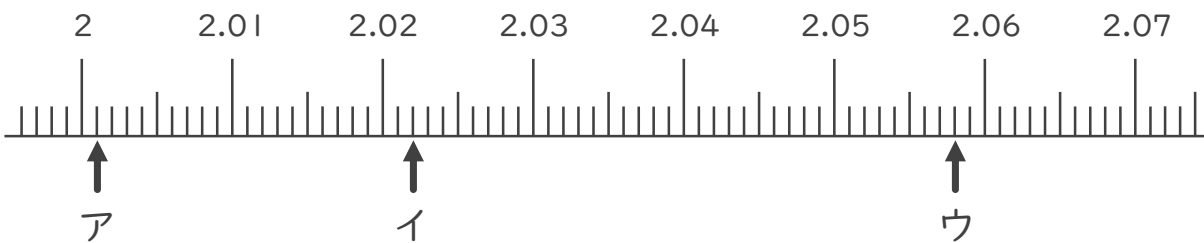
- ① 0.002
- ② 0.014
- ③ 0.051
- ④ 0.069



- ⑤ 1.017
- ⑥ 1.025
- ⑦ 1.043
- ⑧ 1.068



2. 次の数直線でア～ウが表す数を答えましょう。



ア _____

イ _____

ウ _____





小数の表し方8

㉞ 数直線の読みとり
(小数第三位)

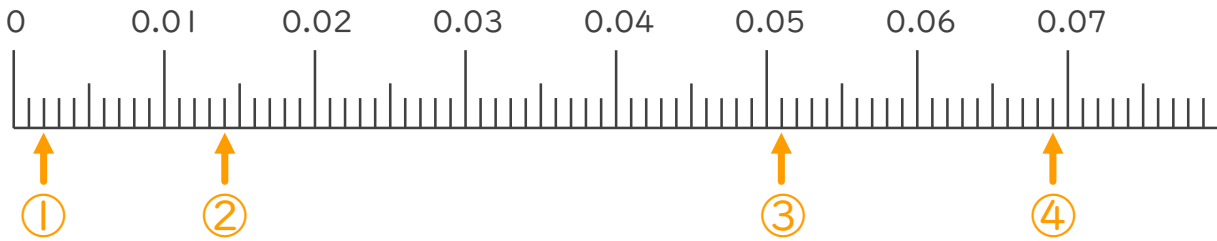


日にち： 月 日

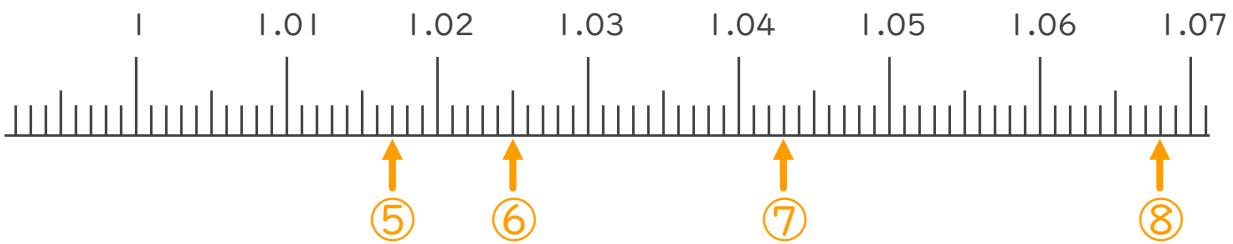
名まえ _____

1. 次の小数を表すめもりに ↑ を書きましょう。

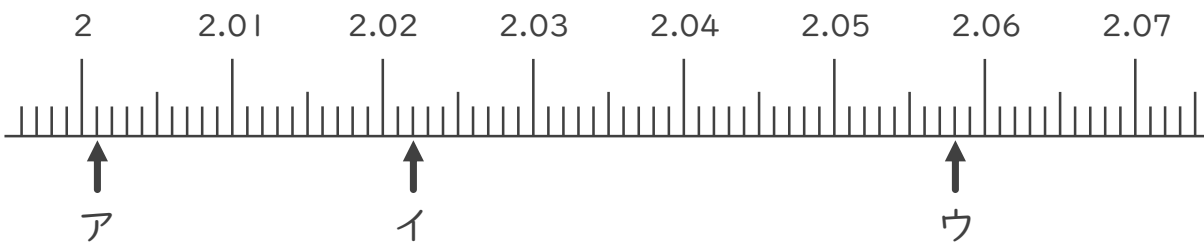
- ① 0.002 ② 0.014 ③ 0.051 ④ 0.069



- ⑤ 1.017 ⑥ 1.025 ⑦ 1.043 ⑧ 1.068



2. 次の数直線でア～ウが表す数を答えましょう。



ア 2.001

イ 2.022

ウ 2.058

