



小数の表し方 4

◎ 水のかさをぬる

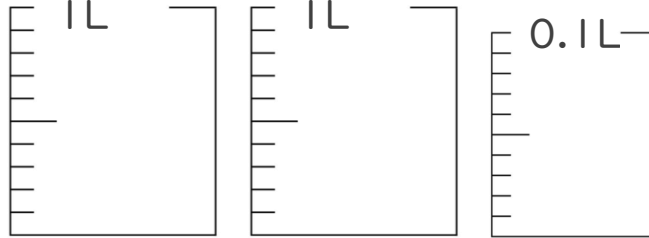


日にち： 月 日

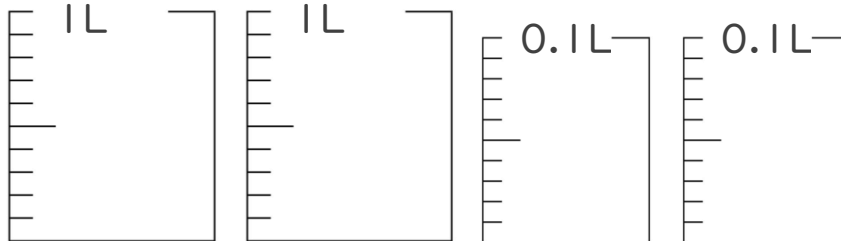
名まえ _____

・ 次の水のかさの分だけ色をぬりましょう。

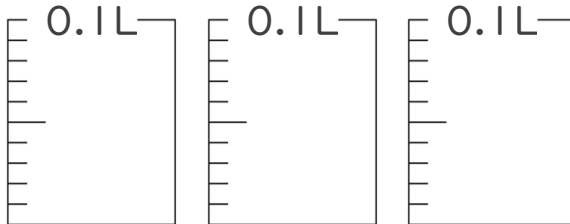
① 2.07 L



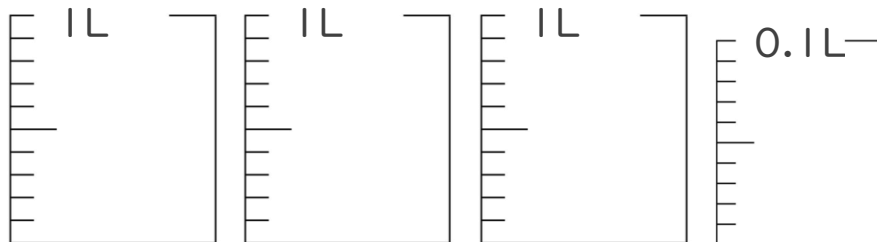
② 2.12 L



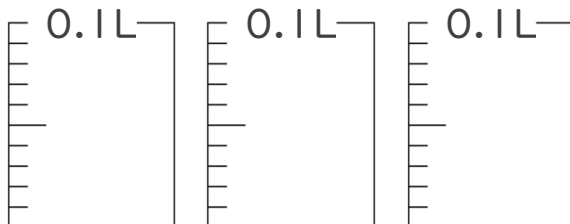
③ 0.29 L



④ 3.06 L



⑤ 0.28 L





小数の表し方4

◎ 水のかさをぬる

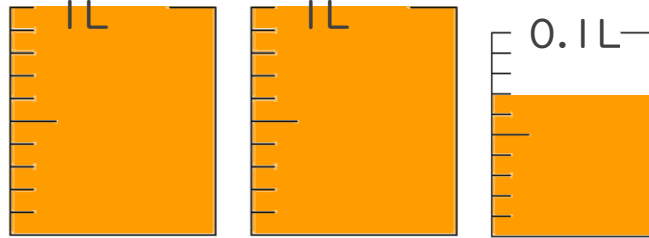


日にち： 月 日

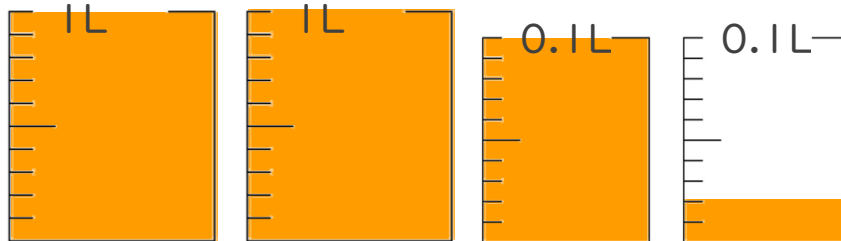
名まえ _____

・ 次の水のかさの分だけ色をぬりましょう。

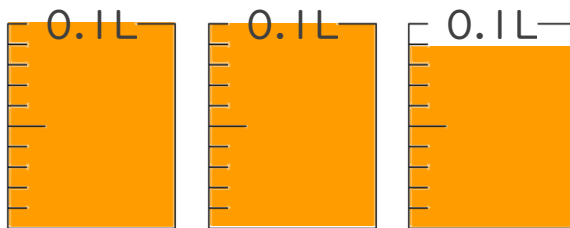
① 2.07 L



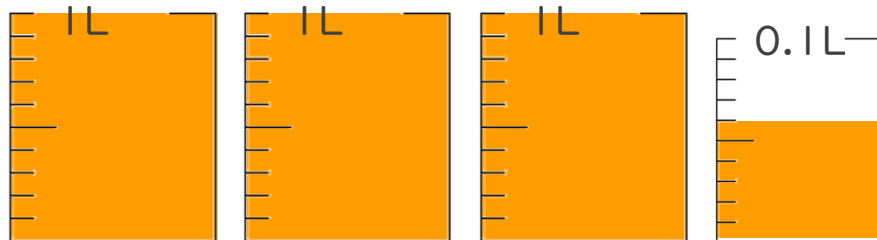
② 2.12 L



③ 0.29 L



④ 3.06 L



⑤ 0.28 L

