



分数 (分数の表し方) |

● 真分数・帯分数・仮分数とは



日にち： 月 日

名まえ _____

1 次の分数は、真分数、仮分数、帯分数のどれですか。

① $3\frac{5}{8}$

② $\frac{7}{9}$

③ $\frac{7}{6}$

④ $\frac{17}{3}$

⑤ $\frac{4}{4}$

⑥ $1\frac{5}{8}$

答え： ①

②

③

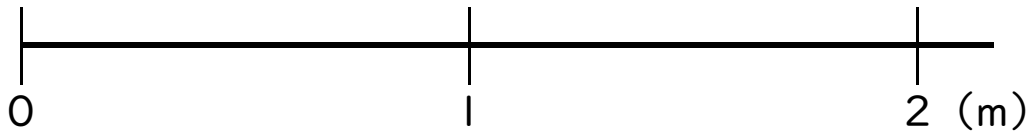
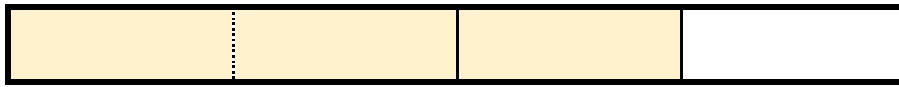
④

⑤

⑥

2 色をぬった部分の長さを、仮分数と帯分数の両方で表しましょう

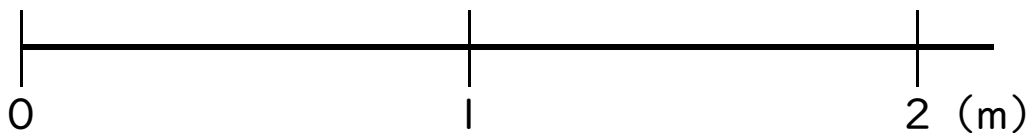
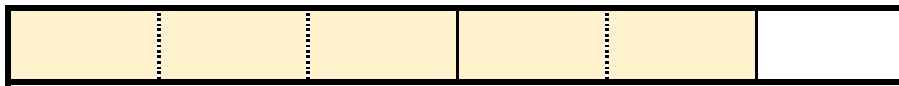
①



答え： 仮分数…

帯分数…

②



答え： 仮分数…

帯分数…





分数 (分数の表し方) |

● 真分数・帯分数・仮分数とは



日にち： 月 日

名まえ _____

1 次の分数は、真分数、仮分数、帯分数のどれですか。

① $3\frac{5}{8}$

② $\frac{7}{9}$

③ $\frac{7}{6}$

④ $\frac{17}{3}$

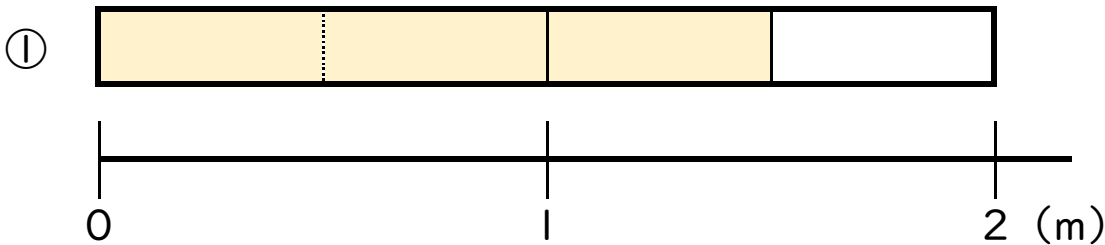
⑤ $\frac{4}{4}$

⑥ $1\frac{5}{8}$

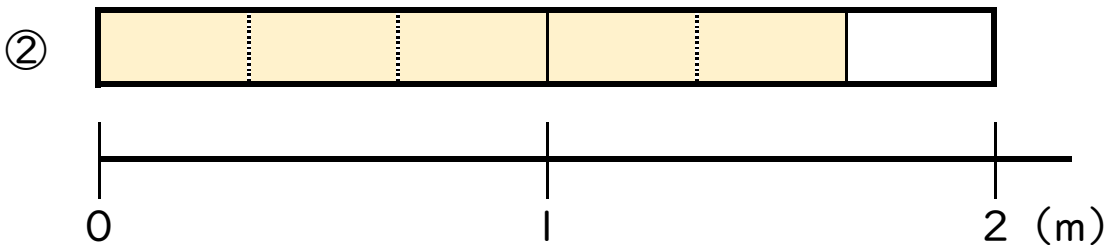
答え： ① 帯分数 ② 真分数 ③ 仮分数

④ 仮分数 ⑤ 仮分数 ⑥ 帯分数

2 色をぬった部分の長さを、仮分数と帯分数の両方で表しましょう



答え： 仮分数… $\frac{3}{4}$ 帯分数… $1\frac{3}{4}$



答え： 仮分数… $\frac{5}{6}$ 帯分数… $1\frac{5}{6}$

