



分数 (分数の表し方) ①

真分数・帯分数・仮分数とは



日にち： 月 日

名まえ _____

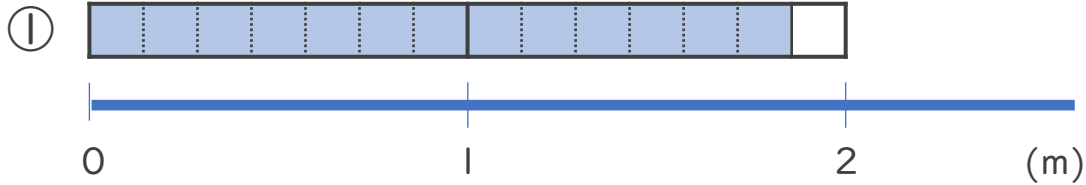
1 次の分数は、真分数、仮分数、帯分数のどれですか。

- ① $2\frac{1}{3}$ ② $\frac{3}{8}$ ③ $\frac{7}{4}$ ④ $\frac{9}{2}$ ⑤ $\frac{4}{13}$ ⑥ $4\frac{2}{5}$

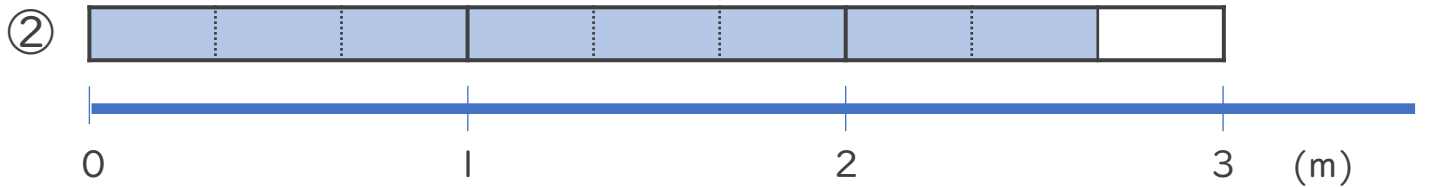
答え：① _____ ② _____ ③ _____

④ _____ ⑤ _____ ⑥ _____

2 色をぬった部分の長さを、仮分数と帯分数の両方で表しましょう。



答え：仮分数… _____ 帯分数… _____



答え：仮分数… _____ 帯分数… _____



分数 (分数の表し方) ①

真分数・帯分数・仮分数とは



日にち： 月 日

名まえ _____

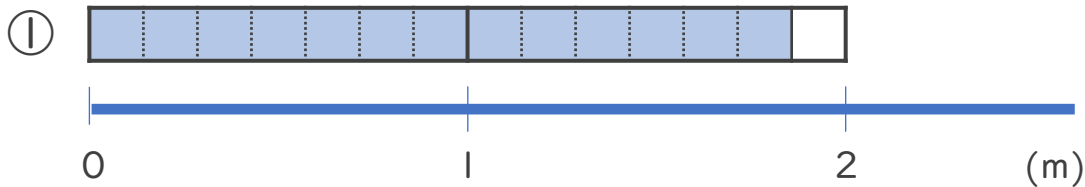
1 次の分数は、真分数、仮分数、帯分数のどれですか。

- ① $2\frac{1}{3}$ ② $\frac{3}{8}$ ③ $\frac{7}{4}$ ④ $\frac{9}{2}$ ⑤ $\frac{4}{13}$ ⑥ $4\frac{2}{5}$

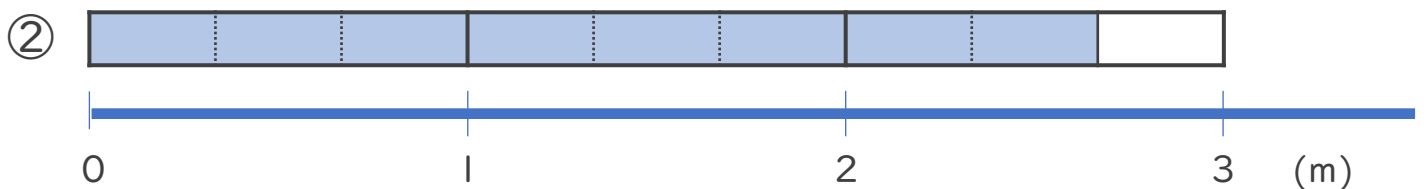
答え：① 帯分数 ② 真分数 ③ 仮分数

④ 仮分数 ⑤ 真分数 ⑥ 帯分数

2 色をぬった部分の長さを、仮分数と帯分数の両方で表しましょう。



答え：仮分数… $\frac{13}{7}$ 帯分数… $1\frac{6}{7}$



答え：仮分数… $\frac{8}{3}$ 帯分数… $2\frac{2}{3}$

