



# 直方体や立方体 12

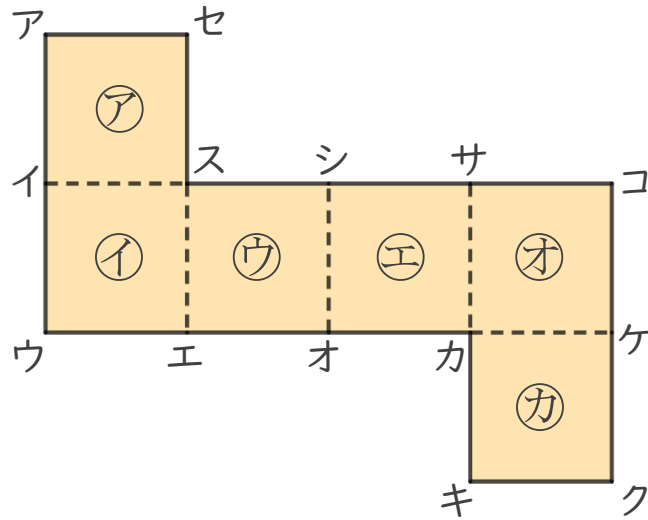


## 立方体の展開図

日にち： 月 日

名まえ \_\_\_\_\_

- 下の立方体の展開図を組み立てます。



- ① 点クと重なる点はどれですか。

答え \_\_\_\_\_

- ② 辺シサと重なる辺はどれですか。


答え \_\_\_\_\_

- ③ 面㊦に平行な面はどれですか。

答え \_\_\_\_\_

- ④ 点イと重なる点はどれですか。

答え \_\_\_\_\_



# 直方体や立方体 12

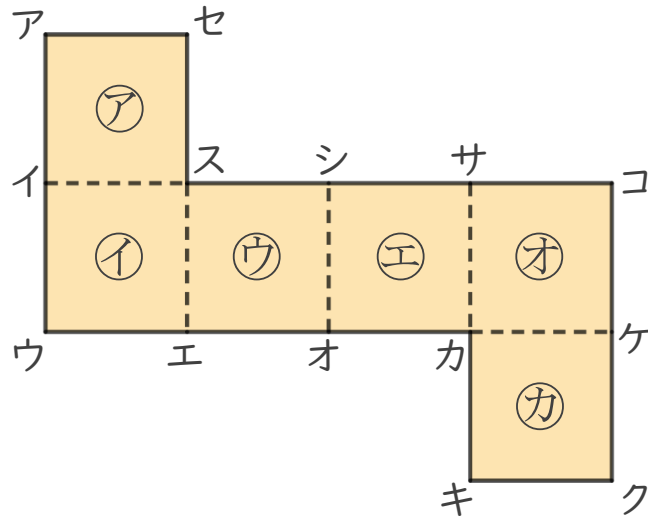


## ◎ 立方体の展開図

日にち： 月 日

名まえ \_\_\_\_\_

・ 下の 立方体の展開図を組み立てます。



① 点クと重なる点はどれですか。

答え 点エ

② 辺シサと重なる辺はどれですか。

答え 辺セア

③ 面㊦に平行な面はどれですか。

答え 面㊦

④ 点イと重なる点はどれですか。

答え 点コ