



垂直, 平行と 四角形2

2直線と垂直




日にち： 月 日

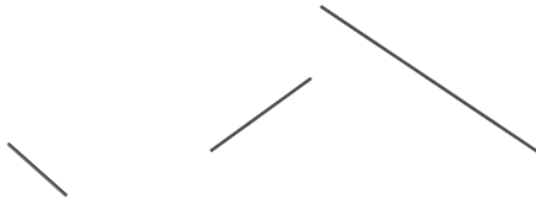
名まえ _____

- 次の図で、2本の直線が垂直であるものを㉠～㉧の中から全て選びましょう。

㉠



㉡



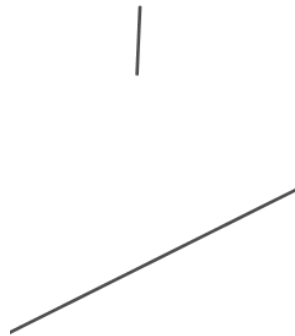
㉢



㉣



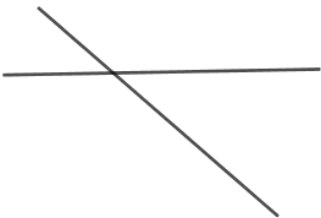
㉤



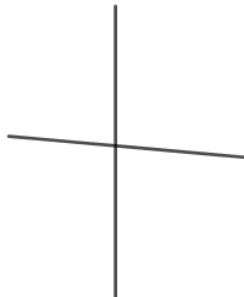
㉥



㉦



㉧



㉨



答え：





垂直, 平行と
四角形2

2直線と垂直

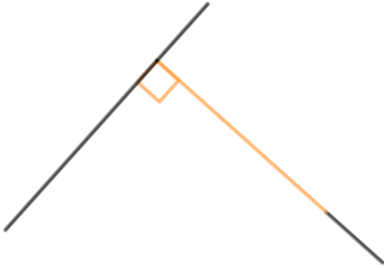


日にち： 月 日

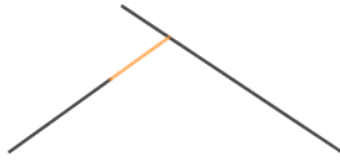
名まえ _____

- 次の図で、2本の直線が垂直であるものをア～ケの中から全て選びましょう。

ア



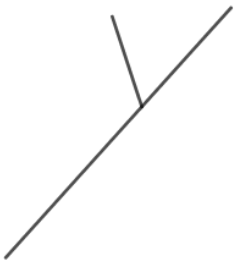
イ



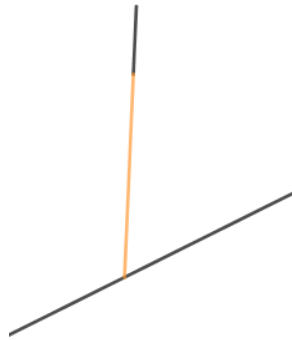
ウ



エ



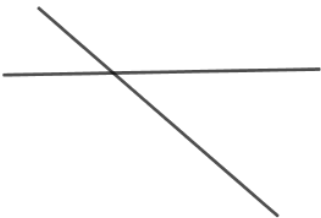
オ



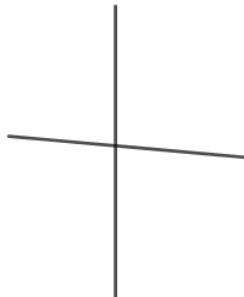
カ



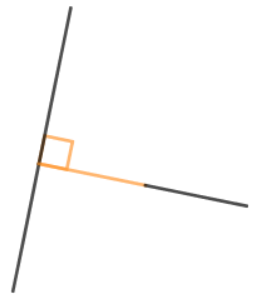
キ



ク



ケ



答え： ア, ウ, ケ

